



La decena: 10 como unidad

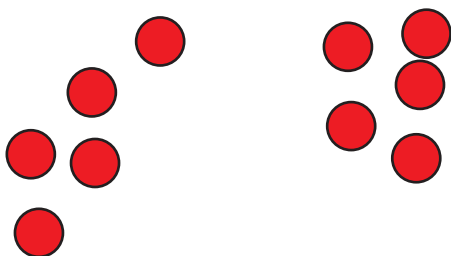
Exploremos números del 11 al 19.

Calentamiento

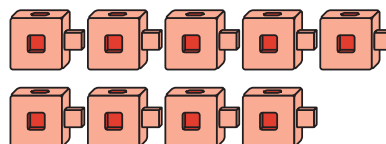
Cuáles tres van juntos: Grupos de 10

¿Cuáles tres van juntas?

A



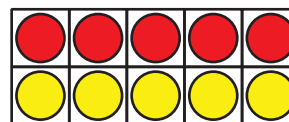
B



C



D



Actividad 1

Cuenta y muestra cuántos hay

¿Cuántos cubos hay?

Muestra cómo contaste.

Mi cuenta:

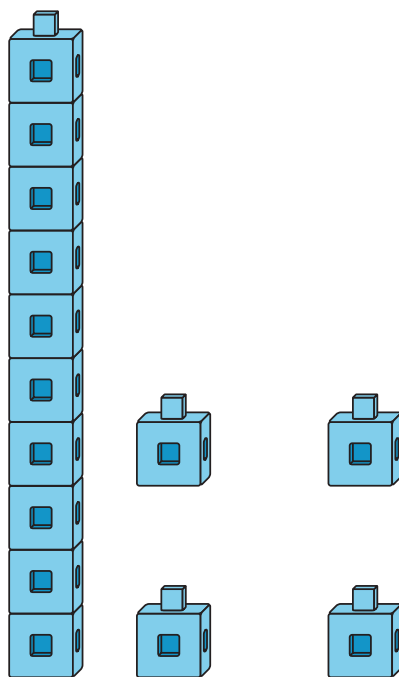
¿Cuántos hay? _____



Actividad 2

Construyamos números del 11 al 19

Clare muestra un número así.



Escoge 4 números para representar.
Márcalos.

10 11 12 13 14

15 16 17 18 19

Usa cubos encajables para mostrar cada número como lo hizo Clare.

¿De qué te diste cuenta mientras mostrabas cada número?

