



# Dividamos decimales entre números enteros

Dividamos números decimales entre números enteros.

## Calentamiento

### Exploración de estimación: Dividamos entre números enteros

¿Cuál es el valor de  $0.42 \div 5$ ?

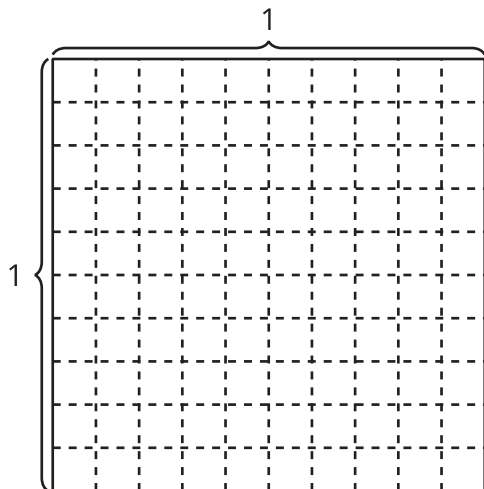
Escribe una estimación que sea:

muy baja	razonable	muy alta

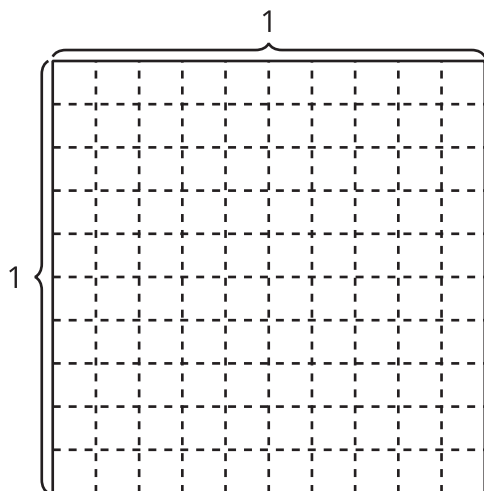
## Actividad 1

### Grupos de números enteros

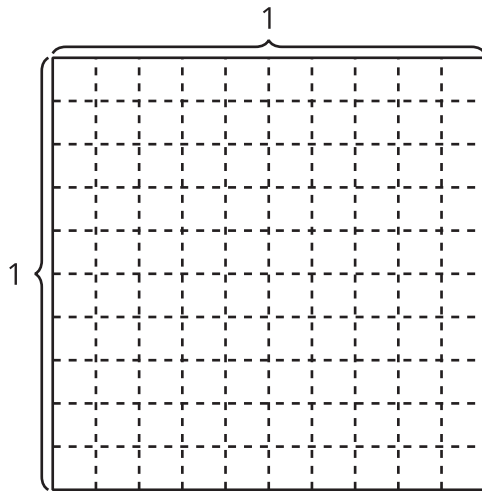
1. Encuentra el valor de la expresión  $0.8 \div 4$ . Explica o muestra cómo razonaste.



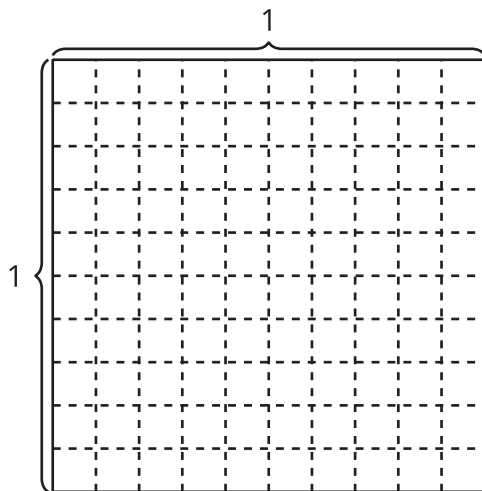
2. Encuentra el valor de la expresión  $0.6 \div 3$ . Explica o muestra cómo razonaste.



3. Encuentra el valor de  $0.5 \div 2$ . Explica o muestra cómo razonaste.



4. Encuentra el valor de  $0.75 \div 5$ . Explica o muestra cómo razonaste.



### Expresiones con cocientes decimales

1. Encuentra el valor de cada expresión. Explica cómo razonaste.

a.  $60 \div 5$

b.  $6 \div 5$

c.  $0.6 \div 5$

2. Encuentra el valor de cada expresión. Explica cómo razonaste.

a.  $0.7 \div 2$

b.  $0.45 \div 5$