



Una de las partes, todas las partes


Describamos partes iguales de figuras.

Calentamiento


Cuáles tres van juntos: Figuras partidas

¿Cuáles 3 van juntas?

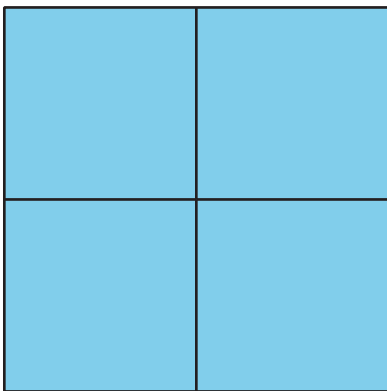
A



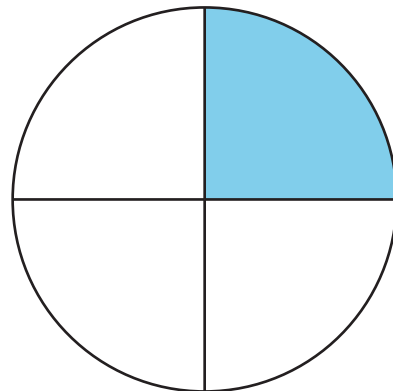
B



C




D



Actividad 1


Colorea una parte

1. Parte el cuadrado en mitades.



Colorea 1 de las mitades.
¿Cuánto del cuadrado está coloreado?

2. Parte el círculo en cuartos.



Colorea 1 de los cuartos.
¿Cuánto del círculo esta coloreado?

Actividad 2

Clasificación de tarjetas: Partes sombreadas

Clasifica tus tarjetas en estas categorías.

Un cuarto está sombreado.

Una mitad
está sombreada.



Toda la figura
está sombreada.

Las partes *no*
son iguales.



Actividad 3

Describamos partes iguales

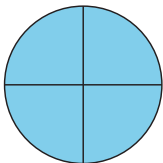
Escoge una o más frases que describan cada figura.

- partida en cuartas partes
- partida en mitades
- partida en cuartos
- una mitad sombreada
- un cuarto sombreado
- una cuarta parte sombreada
- 2 mitades sombreadas
- 4 cuartos sombreados


1.



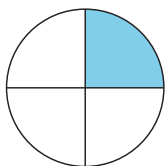
2.




3.



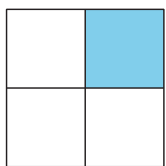
4.



5.



6.



7.

