



# Fracciones equivalentes

Identifiquemos fracciones equivalentes.

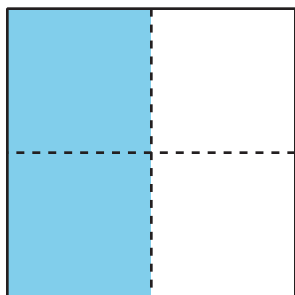


## Actividad 1

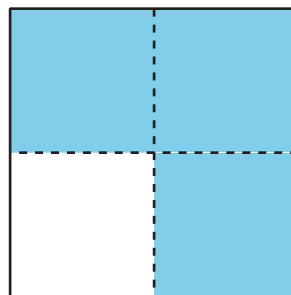
### Equivalente a $\frac{1}{2}$

1. ¿En cuáles figuras la sección sombreada cubre  $\frac{1}{2}$  de la figura? Prepárate para explicar tu razonamiento.


**A**



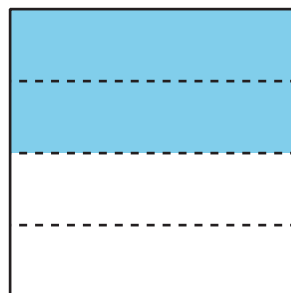
**B**




**C**




**D**



**E**



**F**



2. ¿Por qué puede haber más de una manera de colorear una figura para mostrar  $\frac{1}{2}$ ?

## Actividad 2

### Encontremos fracciones equivalentes

Usa las tiras de fracciones que usaste en una lección anterior para encontrar tantas fracciones como puedas que sean equivalentes a:

1.  $\frac{1}{2}$

2.  $\frac{2}{3}$

3.  $\frac{6}{6}$

4.  $\frac{3}{4}$

Prepárate para mostrar cómo sabes que las fracciones son equivalentes.

