



Exploremos expresiones y sumas

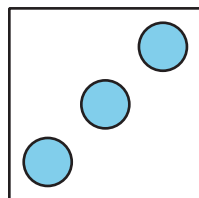
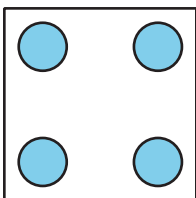
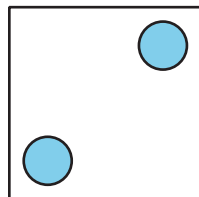
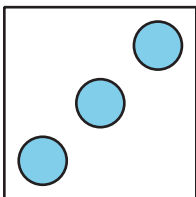
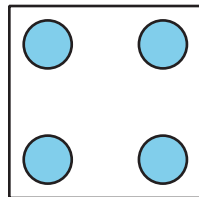
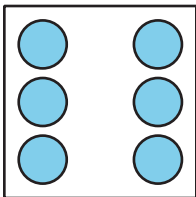
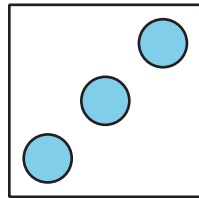
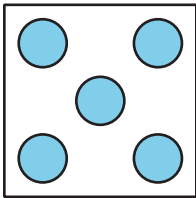
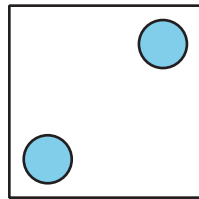
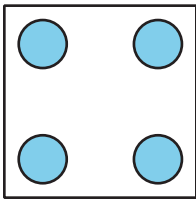
Escribamos expresiones de suma y encontremos la suma de 2 números.



Actividad 1



Emparejemos expresiones con tarjetas de puntos

Empareja cada par de dados con una expresión.
Después encuentra el total.





expresión	total
$3 + 2$	
$4 + 2$	
$5 + 3$	
$6 + 4$	
$4 + 3$	

Dibuja los puntos que faltan para que el dibujo corresponda a la expresión. Después encuentra el total.





Expresión: $4 + 2$

Total: _____



Expresión: $5 + 2$

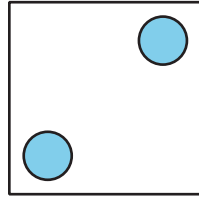
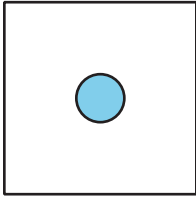
Total: _____



Expresión: $2 + 6$

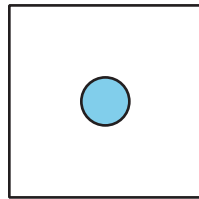
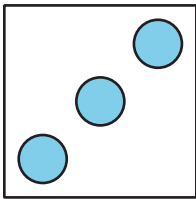
Total: _____

Escribe la expresión que falta para que corresponda a los puntos. Después encuentra el total.



Expresión: _____

Total: _____



Expresión: _____

Total: _____