



# Exploreemos la suma y la resta

Sumemos y restemos.



### Conversación numérica: Restemos 1 o 2

Encuentra mentalmente el valor de cada expresión.

- $6 - 1$

- $6 - 2$

- $8 - 1$


- $8 - 2$

## Actividad 2

### Centros: Momento de escoger

Escoge un centro.

Contar colecciones



Carrera con números



Márcalo




Cinco en línea  
(suma y resta)



## Resumen de la sección A

Practicamos cómo contar colecciones.



Usamos diferentes estrategias para *sumar y restar*.

Sumamos 1 o 2 contando hacia adelante.

$$4 + 2$$

$$4 \dots 5, 6$$

La **suma** es 6.

Restamos 1 o 2 contando hacia atrás.

$$6 - 2$$

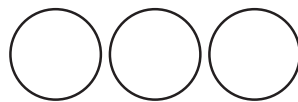
$$6 \dots 5, 4$$

La **diferencia** es 4.

Jugamos juegos que tenían sumas y restas hasta 10.

$$4 + 3$$

La suma es 7.



$$5 - 2$$

La diferencia es 3.

