



Construyamos con figuras sólidas

Construyamos con figuras sólidas.



Conversación numérica: Restemos 1 y 2

Encuentra el valor de cada expresión.

• $3 - 1$

• $3 - 2$

• $4 - 2$

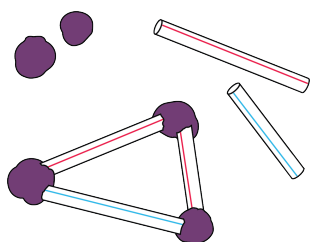
• $5 - 1$

Actividad 3


Conozcamos “Haz una como la mía: Figuras sólidas”

Escoge un centro.


Construye figuras



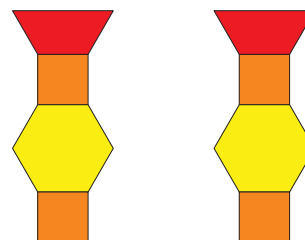
Bloques sólidos geométricos



Contar colecciones



Haz una como la mía



Revuelve y saca

