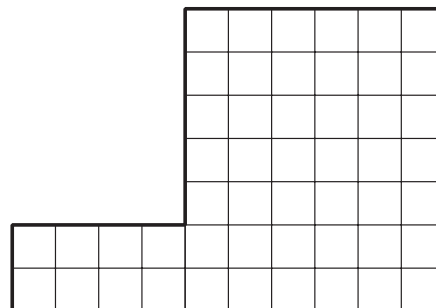


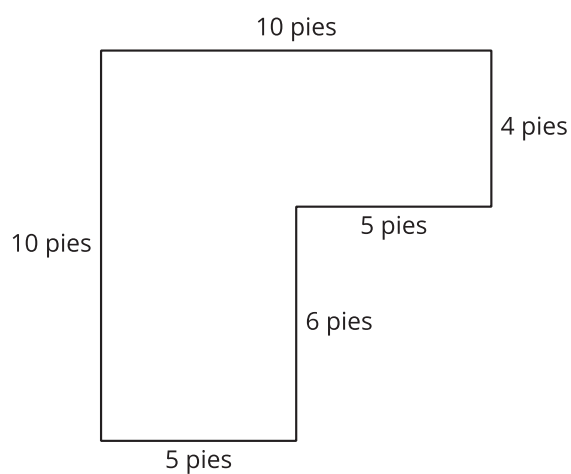
Section C: Practice Problems

1. ¿Cuál es el área de esta figura, en unidades cuadradas? Explica o muestra tu razonamiento.



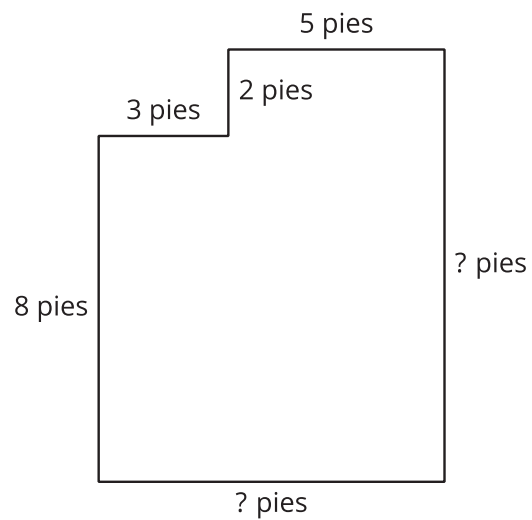
(de la Unidad 2, Lección 12)

2. Encuentra el área de esta figura. Explica o muestra tu razonamiento.



(de la Unidad 2, Lección 13)

3. Encuentra el área de esta figura. Explica o muestra tu razonamiento.

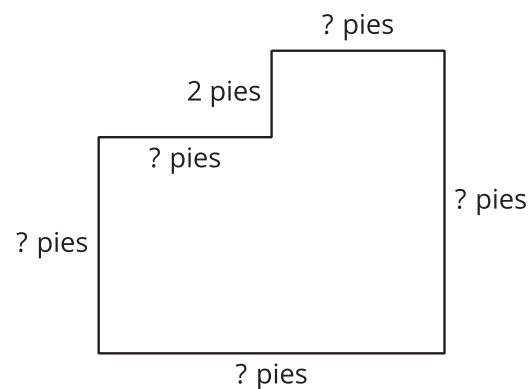


(de la Unidad 2, Lección 14)

4. Exploración

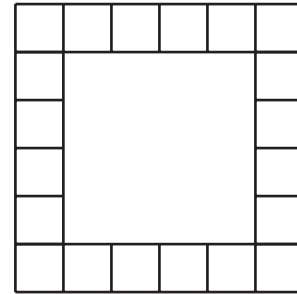
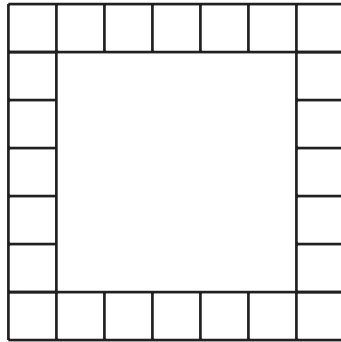
Lin dice que sabe cómo encontrar el área de la figura. Diego dice que no hay suficiente información para encontrar el área.

¿Con quién estás de acuerdo, con Lin o con Diego? Explica cómo pensaste.



5. Exploración

- a. Cada imagen muestra una figura que tiene una parte cubierta con cuadrados pequeños.



En cada imagen, ¿cuál piensas que es mayor: el número de cuadrados que hay en la figura o el número de cuadrados que faltan en el medio?

- b. Comprueba si tus respuestas son correctas o no.