



# Sumemos y restemos hasta 100

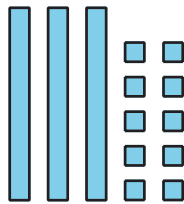
Encontremos la diferencia a nuestra manera.

## Calentamiento

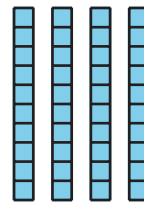
### Cuáles tres van juntos: Decenas y unidades

¿Cuáles 3 van juntos?


A



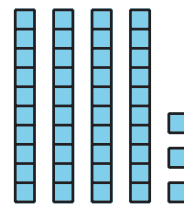
B



C



D



## Actividad 1

### Clasificación de tarjetas: Clasifiquemos y encontremos el valor

Tu profesor te va a dar varias tarjetas que muestran expresiones y diagramas.

1. Empareja cada expresión con un diagrama. Prepárate para explicar tu razonamiento.
2. Escoge una expresión de suma. Encuentra el valor de la suma.
3. Escoge una expresión de resta. Encuentra el valor de la diferencia.



## Actividad 2

### Sumemos o restemos

Encuentra el valor de cada expresión. Muestra cómo pensaste. Usa objetos, dibujos, números o palabras.

1.  $27 + 47$

2.  $55 - 27$



3.  $36 + 38$

4.  $82 - 39$



## Resumen de la sección B

Sumamos números de dos dígitos. **Compusimos** 1 decena juntando 10 unidades. También restamos números de dos dígitos. **Descompusimos** 1 decena partiéndola en 10 unidades. Usamos bloques en base diez y diagramas en base diez para mostrar cómo pensamos.

$$63 - 18$$

