



Hagamos 2 partes

Separaremos números en partes.

Calentamiento

Observa y pregúntate: 2 imágenes

¿Qué observas?


¿Qué te preguntas?




Actividad 2

Los cubos encajables de Diego y de Lin

Los cubos de Diego



Los cubos de Lin



Actividad 3

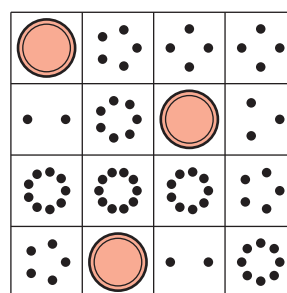
Conozcamos “Márcalo: Suma hasta 10”

Escoge un centro.

Márcalo



Bingo



Encuentra el valor de expresiones

$$\boxed{3+5} \quad \boxed{7-5}$$

Revuelve y saca

