



# Preguntas sobre datos

Hagamos y respondamos preguntas sobre datos.



### Conversación numérica: Más o menos 1 o 2

Encuentra mentalmente el valor de cada expresión.

- $7 + 1$

- $7 + 2$

- $9 - 1$

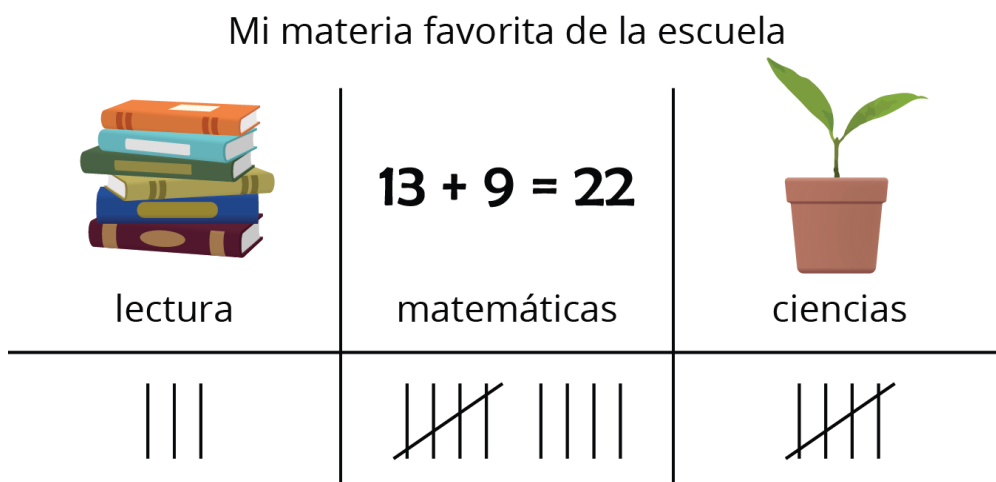
- $9 - 2$

## Actividad 1

### ¿Puedes responderla?

Elena les pregunta a sus compañeros: “¿Qué materia de la escuela es tu favorita?”

Ella muestra sus respuestas.



Han escribió preguntas sobre los datos de Elena.  
En cada caso, decide si la pregunta se puede responder  
usando la representación de los datos.  
Prepárate para explicar por qué.

1. ¿Cuántos estudiantes dijeron que su materia favorita es Matemáticas?



sí

o



no

2. ¿Cuántos estudiantes dijeron que su materia favorita es Escritura?



sí

o



no

3. ¿Quiénes dijeron que les gusta más Lectura?



sí

o



no

4. ¿Cuántos estudiantes escogieron Lectura o Ciencias?



sí

o



no

## Actividad 2

### Hagamos preguntas

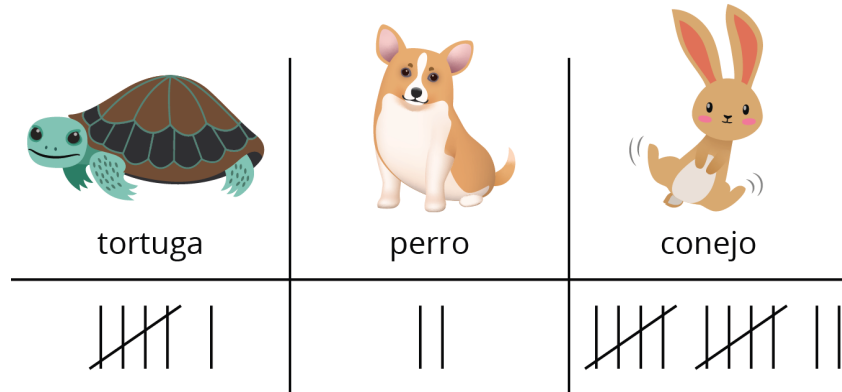
Nuestro \_\_\_\_\_  
favorito

categoria 1	categoria 2	categoria 3

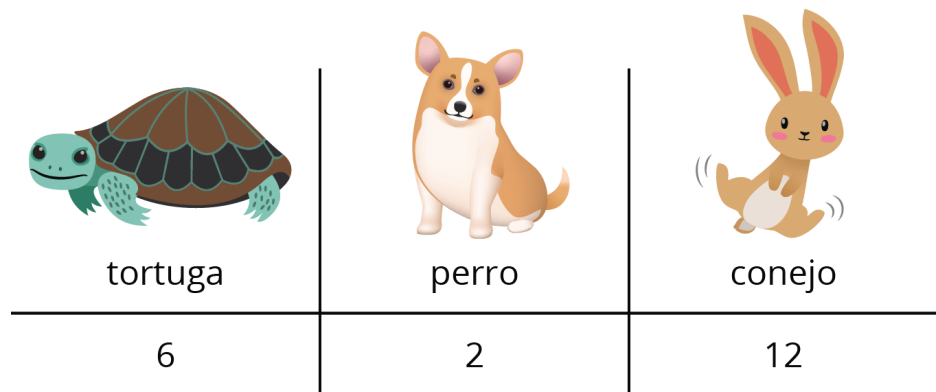
## Resumen de la sección C

Recolectamos datos con una encuesta.  
Mostramos los datos de diferentes formas.

Podemos  
mostrar  
datos  
usando  
marcas de  
conteo.



Podemos  
mostrar  
datos  
usando  
números.



Hicimos y respondimos preguntas sobre datos.

- ¿Cuántos estudiantes quieren una tortuga como mascota para el curso? (6)
- ¿Cuántos estudiantes quieren un perro o un conejo como mascota para el curso? (14)
- ¿Cuántos estudiantes respondieron la encuesta? (20)