



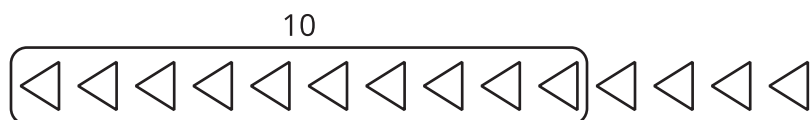
# Contemos imágenes (parte 1)

Encontremos 10 figuras y contémoslas.



## Actividad 1

### Busquemos 10 para contar




1.



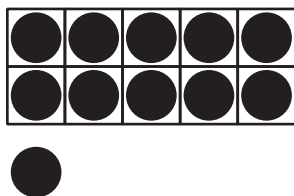
\_\_\_\_\_ cuadrados

2.



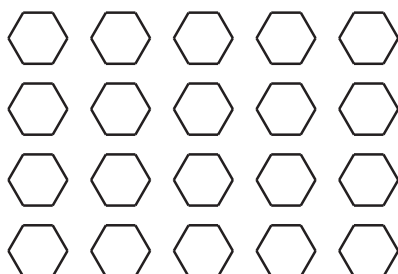
\_\_\_\_\_  
rectángulos

3.




\_\_\_\_\_ puntos

4.




\_\_\_\_\_ hexágonos

5.



\_\_\_\_\_ puntos

6.




\_\_\_\_\_ triángulos

## Actividad 2

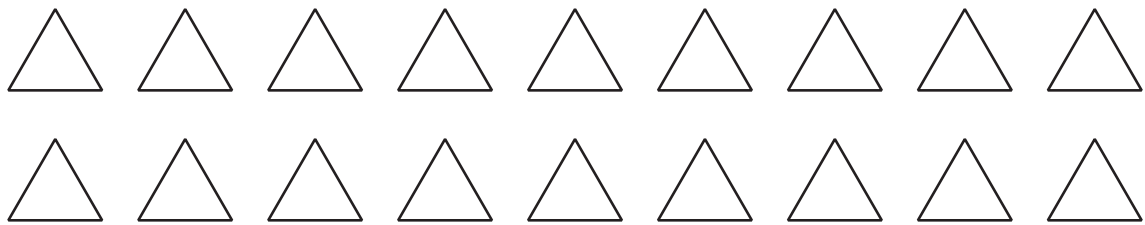
### Coloreemos para que corresponda a las expresiones

1. Colorea los cuadrados para mostrar  $10 + 2$ .



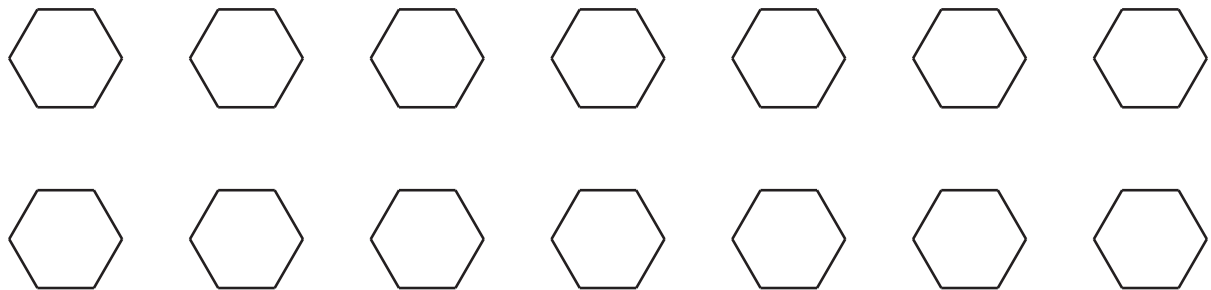
$$10 + 2 = \underline{\hspace{2cm}}$$

2. Colorea los triángulos para mostrar  $10 + 8$ .



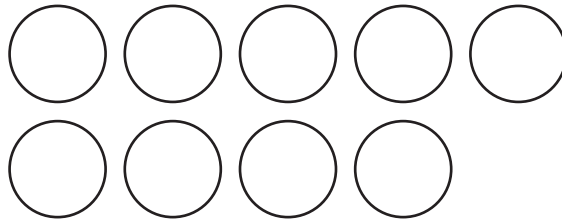
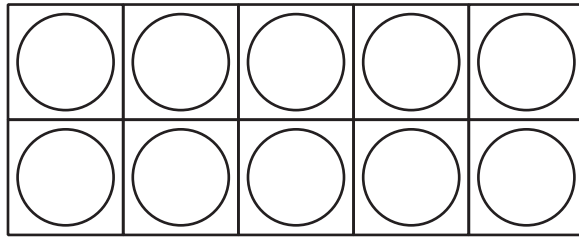
$$10 + 8 = \underline{\hspace{2cm}}$$

3. Colorea los hexágonos para mostrar  $10 + 4$ .



$$10 + 4 = \underline{\hspace{2cm}}$$

4. Colorea los círculos para mostrar  $10 + 9$ .



$$10 + 9 = \underline{\hspace{2cm}}$$

## Actividad 3

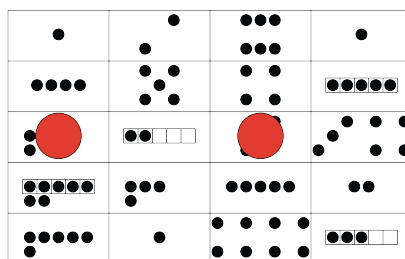
### Centros: Momento de escoger

Escoge un centro.

Encuentra el valor de las expresiones

$$3 + 5 \quad 7 - 5$$

Formar o separar números



Bingo

