



Contemos 2 grupos de objetos

Contemos objetos de 2 grupos.




Calentamiento


Cuáles tres van juntos: Grupos

¿Cuáles 3 van juntos?

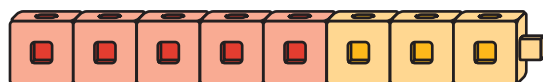
A



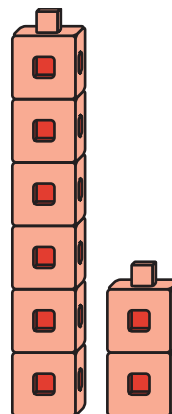
B



C



D



Actividad 1

Juntemos fichas geométricas

¿Cuántas tienes?

Tengo

fichas
geométricas.

Actividad 2

Juntemos cubos encajables

¿Cuántos cubos tienen?

Tenemos

cubos.

Tenemos


cubos.

Actividad 3


Conozcamos “Construcción de torres: Cuenta y construye para obtener 10”

Escoge un centro.

Construcción de torres



Mi mate-libreta



Haz una como la mía

