



Expresiones y dibujos

Emparejemos expresiones con dibujos.

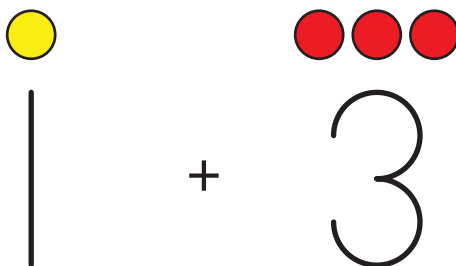


Calentamiento

Observa y pregúntate: Figuras y números

¿Qué observas?

¿Qué te preguntas?



Actividad 1

Emparejemos dibujos con expresiones



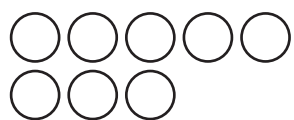
$9 - 2$



$6 - 3$



$4 + 2$



$6 + 3$



$5 + 3$



$7 + 0$

Actividad 2

Escribamos expresiones y hagamos dibujos

Completa lo que falta.

$4 + 3$



$4 - 0$

$\underline{\quad} - \underline{\quad}$



$5 + 3$



Completa lo que falta.

$8 - 2$

$\underline{\hspace{1cm}} + \underline{\hspace{1cm}}$



$1 + 6$

$\underline{\hspace{1cm}} - \underline{\hspace{1cm}}$

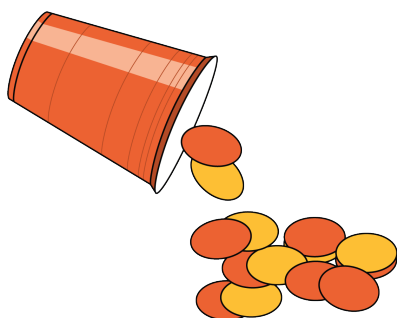


Actividad 3

Conozcamos “Revuelve y saca: Representa”

Escoge un centro.

Revuelve y saca



Carrera con números



Historias matemáticas

