



# Contemos dos grupos de imágenes

Contemos cosas que están en 2 grupos.



## Actividad 1

### Juntemos puntos en tableros de 5

Hay \_\_\_\_\_ puntos.

Hay \_\_\_\_\_ puntos.

Hay \_\_\_\_\_ puntos.

Hay \_\_\_\_\_ puntos.


Hay \_\_\_\_\_ puntos.



## Actividad 2

### ¿Cuántas manzanas?

1.




---

---

Hay \_\_\_\_\_ manzanas.

2.




---

---

Hay \_\_\_\_\_ manzanas.

3.




\_\_\_\_\_

-----

Hay \_\_\_\_\_ manzanas.

4.



\_\_\_\_\_

-----

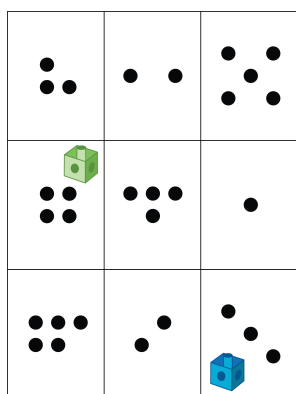
Hay \_\_\_\_\_ manzanas.

## Actividad 3

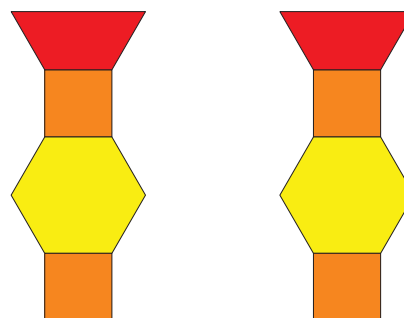
### Conozcamos “Lanza y suma: Puntos”

Escoge un centro.


Lanza y suma



Haz una como la mía



Mi mate-libreta



Construcción de torres

