



# Exploremos estimaciones con fracciones

Exploremos estimaciones con fracciones.

## Calentamiento

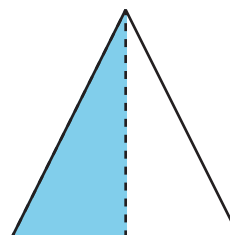
### Cuáles tres van juntos: Fracciones

¿Cuáles 3 van juntas?

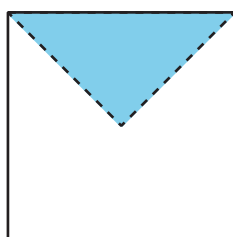
A



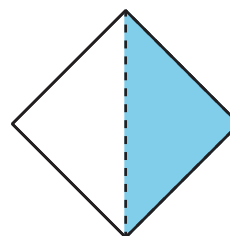
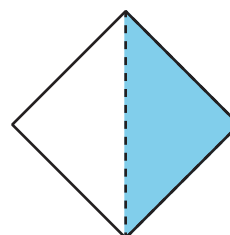
B



C



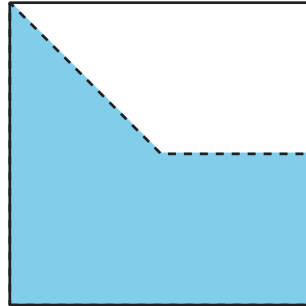
D



## Actividad 1

### Exploración de estimación: Diagrama

¿Qué fracción del cuadrado está sombreada?



Escribe una estimación que sea:

muy baja	razonable	muy alta

## Actividad 2

### Exploración de estimación: Tira de fracciones

¿Qué fracción de la tira está sombreada?



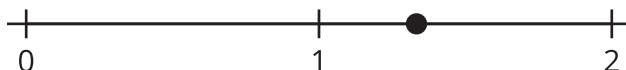
Escribe una estimación que sea:

muy baja	razonable	muy alta

### Actividad 3

## Exploración de estimación: Recta numérica

¿Qué número está representado por el punto en la recta numérica?



Escribe una estimación que sea:

muy baja	razonable	muy alta