



# Dibujemos figuras

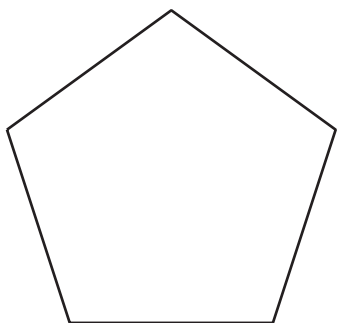
Reconozcamos y dibujemos triángulos, cuadriláteros, pentágonos y hexágonos.

## Calentamiento

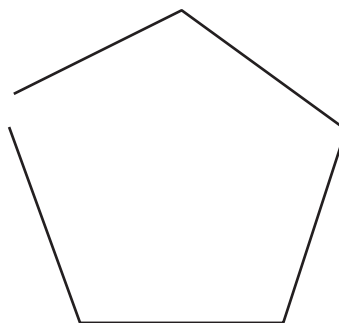
### Cuáles tres van juntos: Figuras de 5 lados

¿Cuáles 3 van juntas?

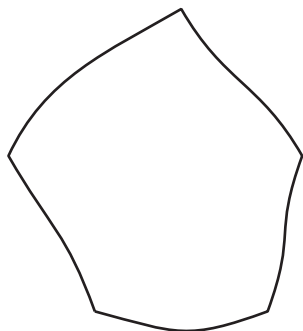
**A**



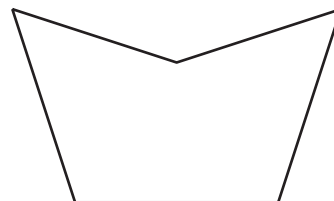
**B**



**C**



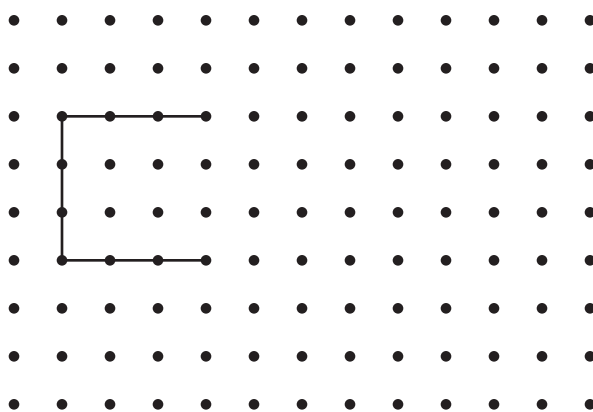
**D**



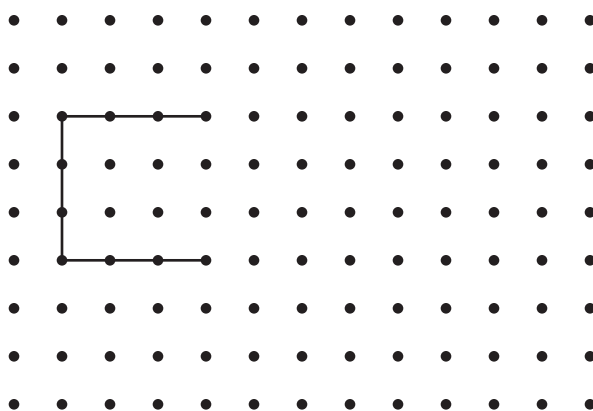
## Actividad 1

### Dibujemos figuras

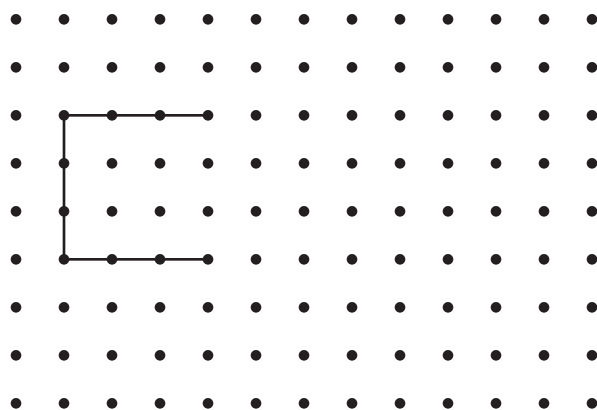
1. Completa la figura para hacer un cuadrilátero. Después dibuja otra figura de 4 lados.



2. Completa la figura para hacer un pentágono. Después dibuja otra figura de 5 lados.



3. Completa la figura para hacer un hexágono. Después dibuja otra figura de 6 lados.

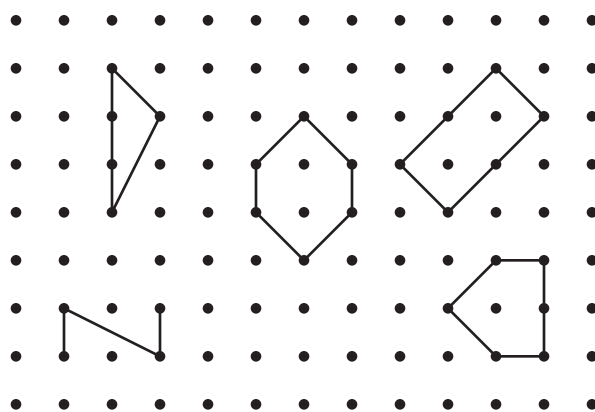


4. Compara tus figuras con las de tu compañero. ¿En qué se parecen las figuras? ¿En qué son diferentes?


## Actividad 2

### ¿Qué figura puede ser?

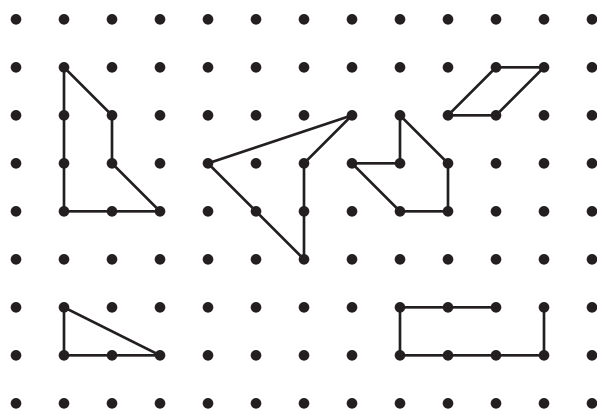
1. Clare dibuja una figura que tiene menos de 5 lados. Marca las figuras que pueden ser la figura de Clare.




2. Dibuja una figura diferente que pueda ser la figura de Clare.



3. Andre dibuja una figura que tiene 4 esquinas. Marca las figuras que pueden ser la figura de Andre.



4. Dibuja una figura diferente que pueda ser la figura de Andre.



5. Han dibuja una figura que tiene más esquinas que la figura de Andre. Dibuja 2 figuras que puedan ser la figura de Han.

