

Matching Descriptions to Graphs, Spanish

Tarjeta 1

El valor de las acciones de una empresa se duplica aproximadamente cada 4 años.

La relación entre el número de años después de comprar la acción y el valor de las acciones.

Matching Descriptions to Graphs, Spanish

Tarjeta 5

El valor de las acciones de una empresa se triplica aproximadamente cada 3 años.

La relación entre el número de años después de comprar las acciones y el valor de las acciones.

Matching Descriptions to Graphs, Spanish

Tarjeta 2

Un automóvil pierde  $\frac{1}{4}$  de su valor cada año después de su compra.

La relación entre el número de años después de comprar el automóvil y el valor del automóvil.

Matching Descriptions to Graphs, Spanish

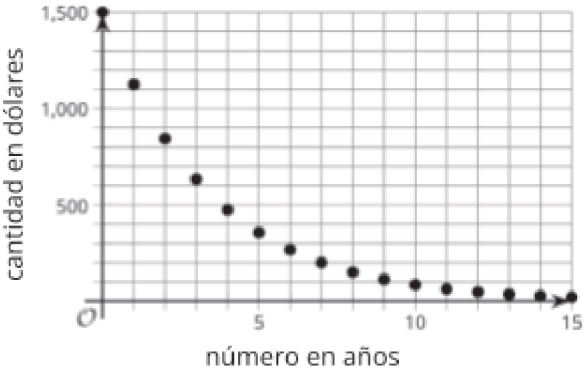
Tarjeta 6

Una computadora portátil pierde  $\frac{2}{5}$  de su valor cada año después de su compra.

La relación entre el número de años después de comprar la computadora portátil y el valor de la computadora.

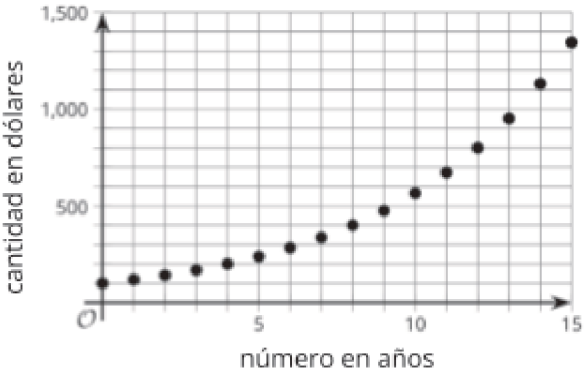
Matching Descriptions to Graphs, Spanish

Tarjeta 3



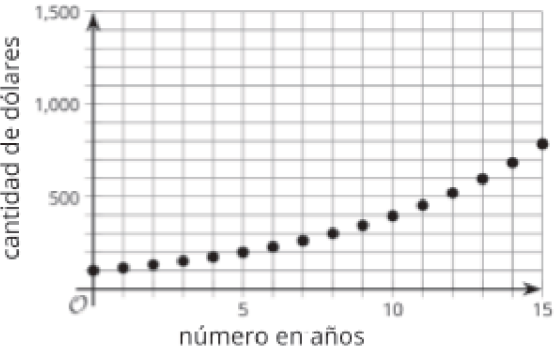
Matching Descriptions to Graphs, Spanish

Tarjeta 7



Matching Descriptions to Graphs, Spanish

Tarjeta 4



Matching Descriptions to Graphs, Spanish

Tarjeta 8

