



Números con decenas y unidades

Aprendamos más sobre decenas y unidades.



Observa y pregúntate: Números de 1 y 2 dígitos

Conjunto A

0

1

2

3

4

5

6

7

8

9

Conjunto B

10

23

45

76

89

Actividad 1

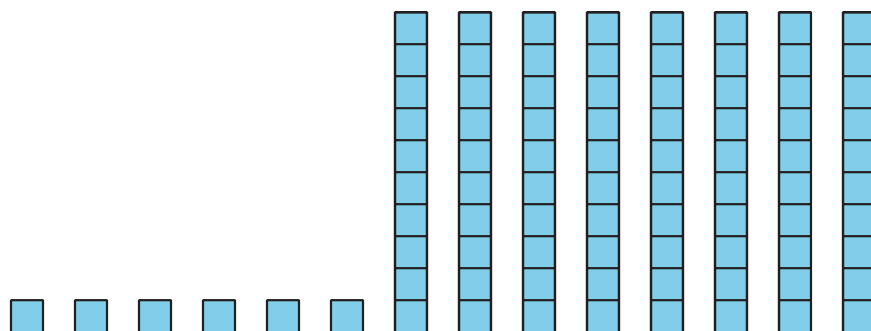
Fórmalo: Decenas y unidades

número de 2 dígitos	dibujo	____ decenas ____ unidades

número de 2 dígitos	dibujo	_____ decenas _____ unidades

Actividad 2

¿Con quién estás de acuerdo?



Clare dice que esto muestra 68 (sesenta y ocho).

Diego dice que esto muestra 86 (ochenta y seis).

¿Con quién estás de acuerdo?

Explica cómo pensaste.


Estoy de acuerdo con _____ porque

Actividad 3

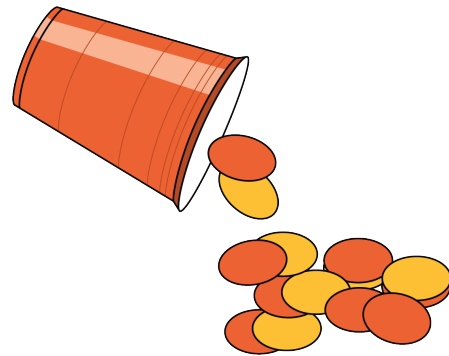
Centros: Momento de escoger

Escoge un centro.

Contar colecciones



Revuelve y saca



Qué tan cerca

+ = _____

Márcalo

