




Comparemos números en la recta numérica

Comparemos números en la recta numérica.

Calentamiento

Exploración de estimación: Centenas

¿Qué número podría ser este?



1. Escribe una estimación que sea:

muy baja	razonable	muy alta

2. Escribe una estimación que sea:

muy baja	razonable	muy alta

Actividad 1

Comparemos comparaciones

Compara 371 y 317. Usa un $<$, un $>$, o un $=$.

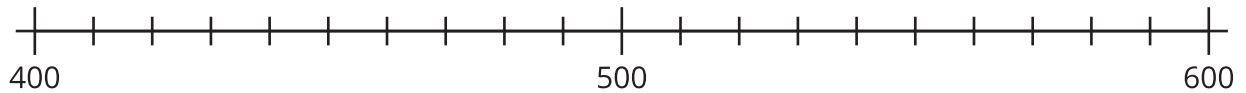
Muestra cómo pensaste. Usa dibujos, números o palabras.



Actividad 2

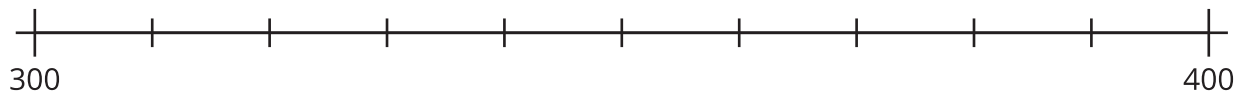
Comparemos de diferentes formas

1. Ubica y marca 420 y 590.



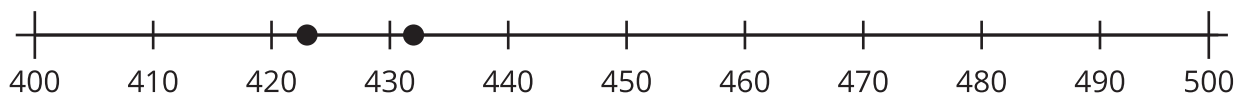


Usa un $<$, un $>$, o un $=$ para comparar 420 y 590.

2. Estima la ubicación de 378 y 387. Marca cada ubicación con un punto y escribe debajo el número que representa.



Usa un $<$, un $>$, o un $=$ para comparar 378 y 387.

3. Diego y Jada compararon 2 números. Usa su trabajo para descifrar qué números compararon. Después usa un $<$, un $>$, o un $=$ para comparar los números.



4. ¿Cuál representación te ayudó más? Explica tu razonamiento.
