



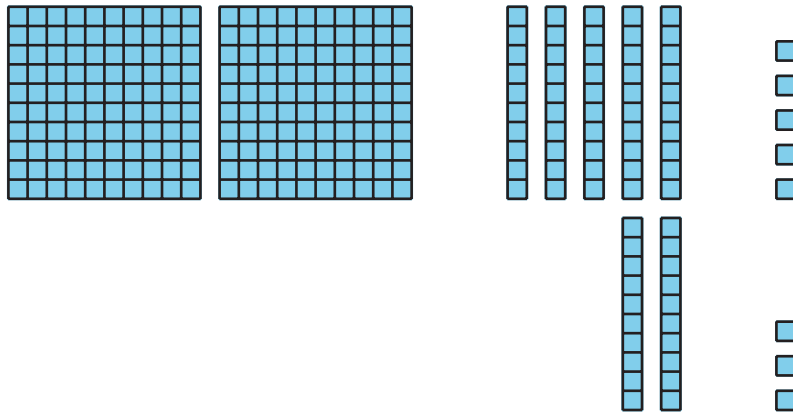
Compongamos decenas y centenas para sumar

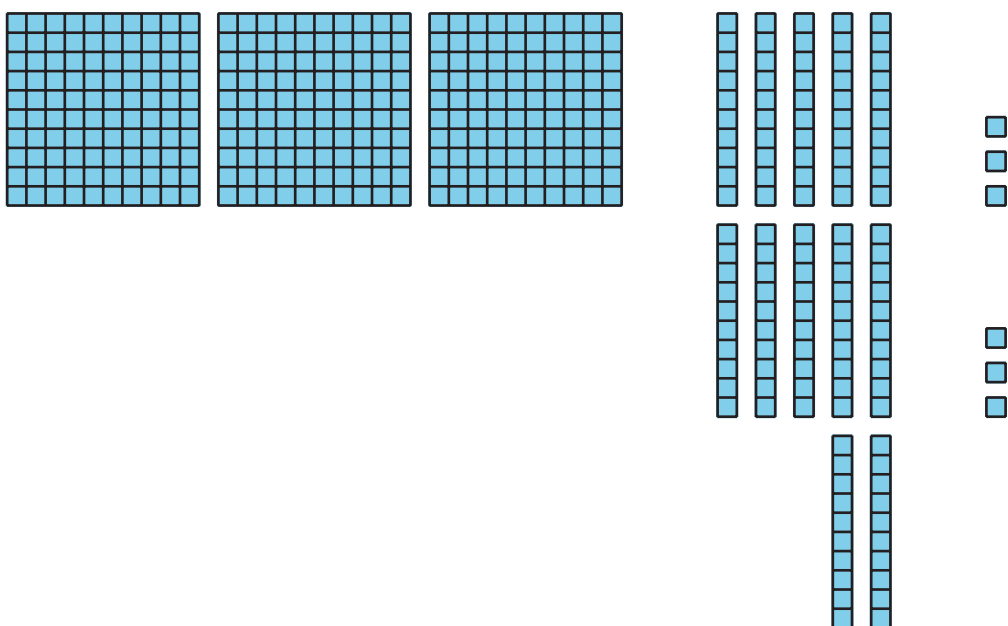
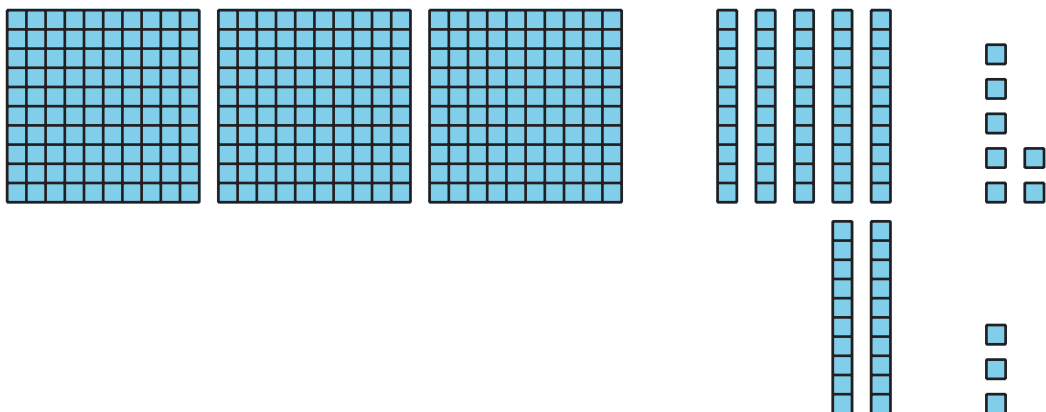
Compongamos decenas y centenas para sumar.

Calentamiento

Cuántos ves: Muchas decenas

¿Cuántos ves? ¿Cómo lo sabes?, ¿qué ves?





Actividad 1

Comparemos las sumas

Encuentra el valor de cada suma. Muestra cómo pensaste. Usa objetos, dibujos, números o palabras.


1. $273 + 18$

2. $273 + 81$



3. $273 + 88$

4. ¿En qué se parecen las sumas? ¿En qué son diferentes?

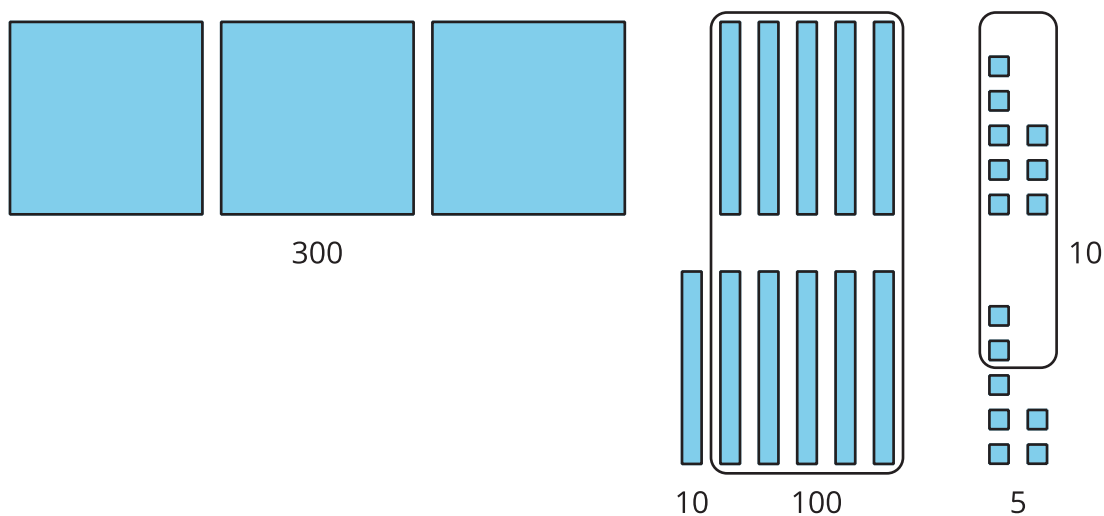


Actividad 2

Diferentes formas de mostrar cómo pensaste

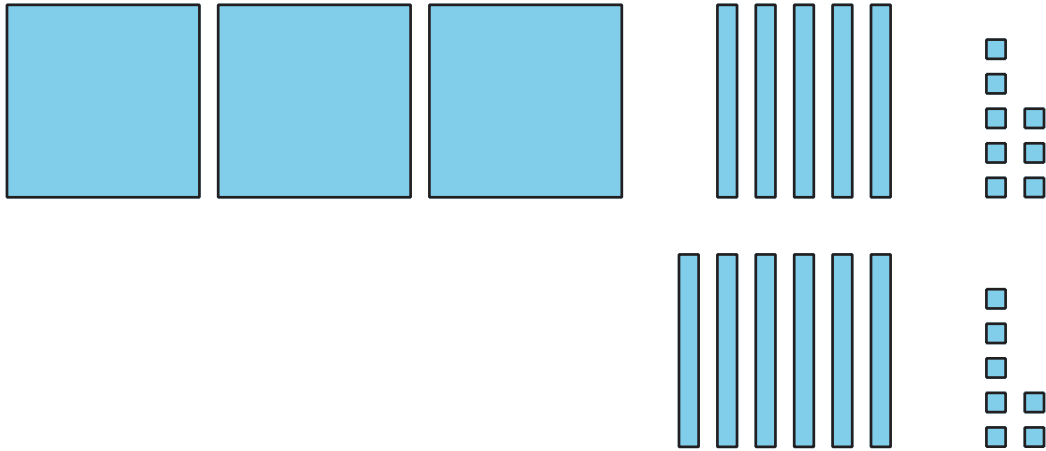
1. Priya y Lin encuentran el valor de $358 + 67$.

El trabajo de Priya



$$\begin{aligned} 300 + 100 + 10 + 10 + 5 \\ 400 + 20 + 5 = 425 \end{aligned}$$

El trabajo de Lin



3 centenas + 11 decenas + 15 unidades
11 decenas = 110
15 unidades = 15
 $300 + 110 + 15 = 425$

¿En qué se parecen el trabajo de Priya y el de Lin? ¿En qué son diferentes? Explica tu razonamiento.

2. Encuentra el valor de $546 + 86$.

Muestra cómo pensaste. Usa objetos, dibujos, números o palabras.