



Sumemos y restemos fracciones

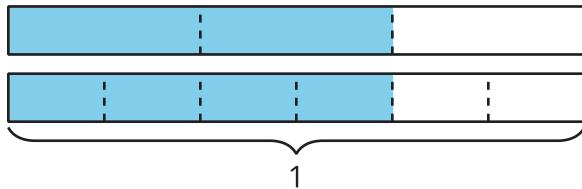
Sumemos y restemos fracciones.

Calentamiento

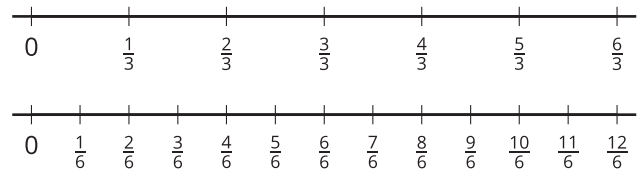
Cuáles tres van juntos: Representaciones de fracciones

¿Cuáles 3 van juntas?

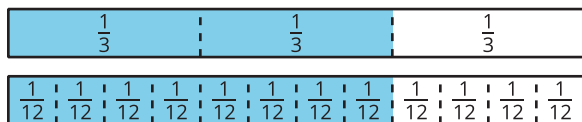
A



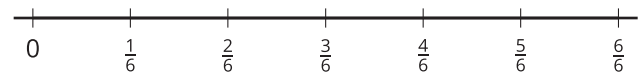
B



C



D



Actividad 1

Clasificación de tarjetas: Sumas y diferencias de fracciones

Tu profesor te va a dar varias tarjetas que muestran expresiones.

1. Clasifica las tarjetas en 2 categorías que tengan sentido para ti. Prepárate para explicar el significado de cada categoría.
2. Clasifica las tarjetas en otras 2 categorías que sean diferentes a las anteriores. Prepárate para explicar el significado de cada nueva categoría.



Actividad 2

Sumemos y restemos

Encuentra el valor de cada expresión. Muestra cómo pensaste. Organiza tu trabajo para que los demás puedan entenderlo.

1. $\frac{2}{3} + \frac{2}{3}$

2. $\frac{2}{3} - \frac{1}{6}$

3. $\frac{2}{3} + \frac{1}{2}$

