



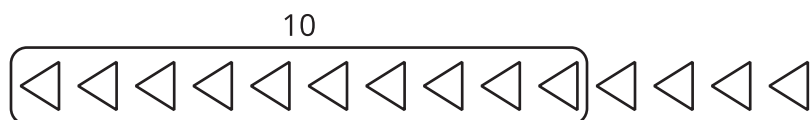
Contemos imágenes (parte 1)

Encontremos 10 figuras y contémoslas.



Actividad 1

Busquemos 10 para contar




1.



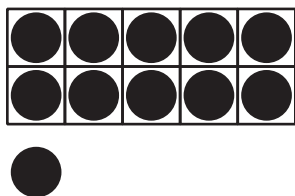
_____ cuadrados

2.




rectángulos

3.




_____ puntos

4.




_____ hexágonos

5.



_____ puntos

6.




_____ triángulos

Actividad 2

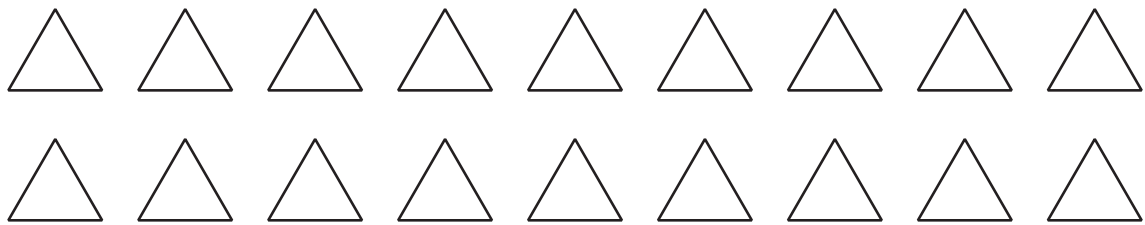
Coloreemos para que corresponda a las expresiones

1. Colorea los cuadrados para mostrar $10 + 2$.



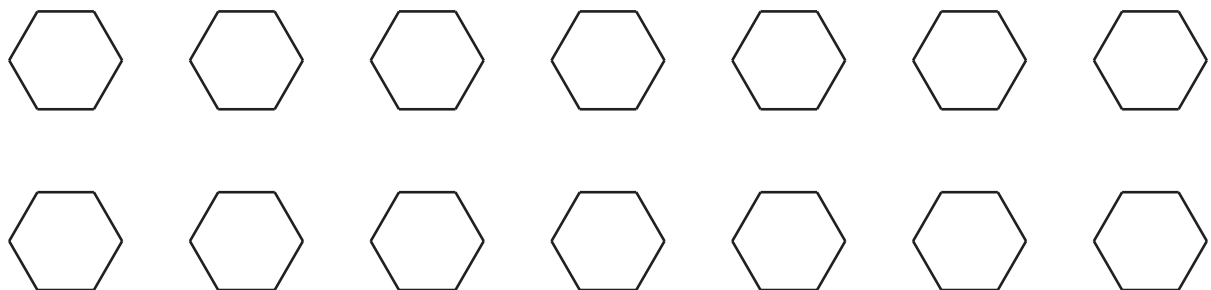
$$10 + 2 = \underline{\hspace{2cm}}$$

2. Colorea los triángulos para mostrar $10 + 8$.



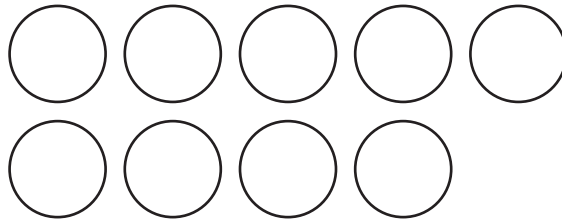
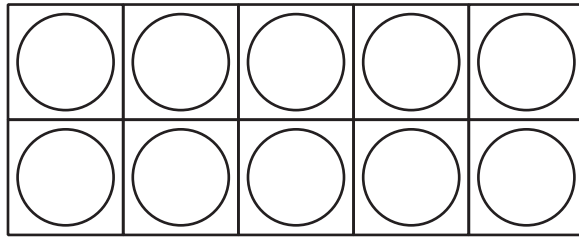
$$10 + 8 = \underline{\hspace{2cm}}$$

3. Colorea los hexágonos para mostrar $10 + 4$.



$$10 + 4 = \underline{\hspace{2cm}}$$

4. Colorea los círculos para mostrar $10 + 9$.



$$10 + 9 = \underline{\hspace{2cm}}$$

Actividad 3

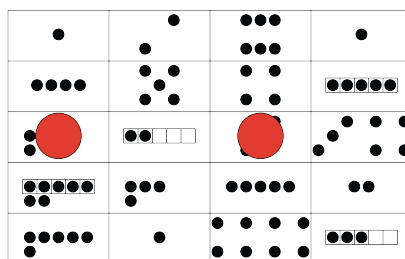
Centros: Momento de escoger

Escoge un centro.

Encuentra el valor de las expresiones

$$3 + 5 \quad 7 - 5$$

Formar o separar números



Bingo

