



Encontremos el área de una figura

Encontremos el área de una figura.

Calentamiento

Conversación numérica: Extendamos formar una decena

Encuentra mentalmente el valor de cada expresión.

- $109 + 4$

- $109 + 14$

- $209 + 34$

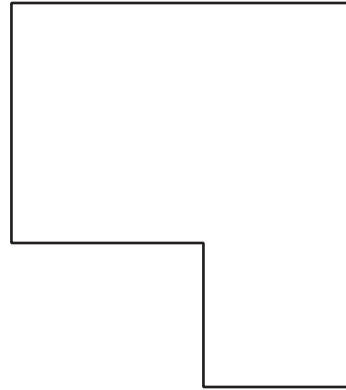
- $219 + 34$



Actividad 1

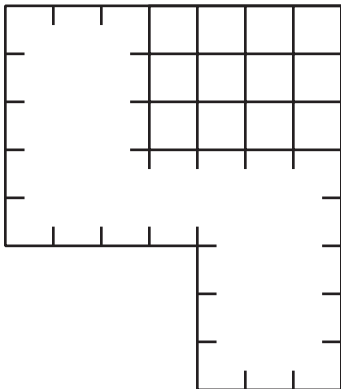
Adiós a los cuadrados

¿Qué observas? ¿Qué te preguntas?

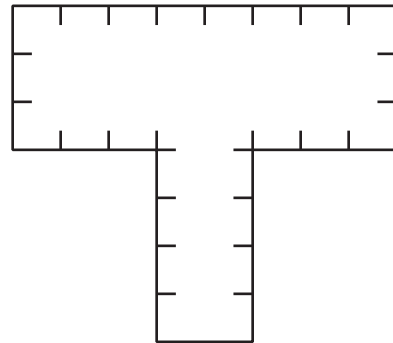


Encuentra el área de cada figura. Explica o muestra tu razonamiento.

1.



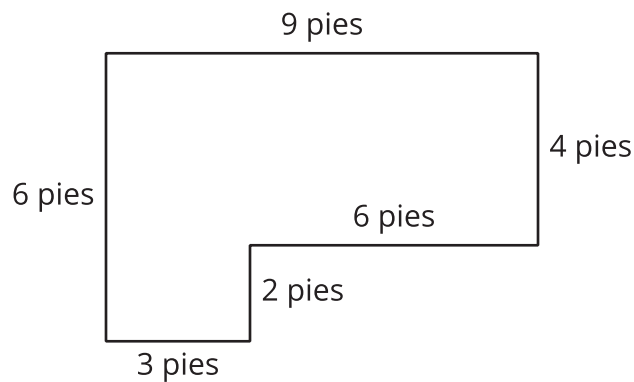
2.



Actividad 2

¿Cuántos adoquines necesitamos?

Noah quiere usar adoquines para hacer un patio pequeño en la huerta comunitaria. Este es un diagrama del patio.



1. Cada adoquín cubre 1 pie cuadrado. ¿Cuántos adoquines necesitará Noah para cubrir todo el patio?
2. ¿Cuál es el área del patio? Explica o muestra tu razonamiento.

