




# Midamos para encontrar el área

Midamos los lados de algunos rectángulos y encontremos el área.

## Calentamiento

### Observa y pregúntate: Grupos y arreglos

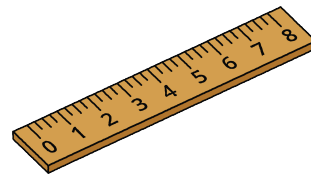
¿Qué observas? ¿Qué te preguntas?




## Actividad 1

### Midamos para encontrar el área

Usa una regla para medir en centímetros los lados de cada rectángulo. Después, calcula el área de cada rectángulo, en centímetros cuadrados.



**A**



**C**



**B**



## Actividad 2

### Hagamos un rectángulo

Tu profesor te va a dar un poco de cinta. Úsala para crear un rectángulo que tenga el área que le asignaron a tu grupo.

- Área A: 4 pies cuadrados
- Área B: 6 pies cuadrados
- Área C: 9 pies cuadrados
- Área D: 10 pies cuadrados
- Área E: 12 pies cuadrados
- Área F: 16 pies cuadrados

