



Suma con una decena

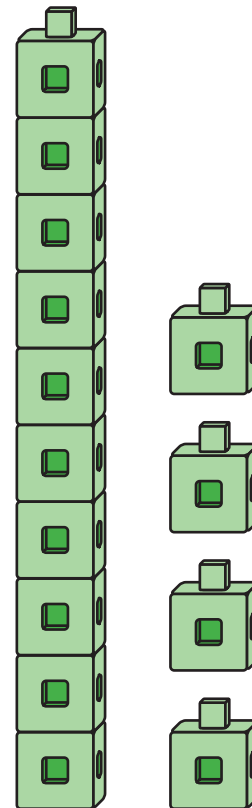
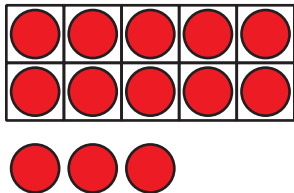
Usemos una decena para formar números del 11 al 19.

Calentamiento

Observa y pregúntate: Números del 11 al 19

¿Qué observas?

¿Qué te preguntas?

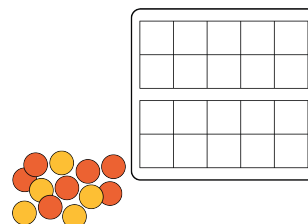


Actividad 1

Hagámoslo: Números del 11 al 19 y tableros de 10

Usa tus tableros de 10 para construir números del 11 al 19.

Escribe una ecuación que muestre el número que construiste.



| número del 11 al 19 | ecuación |
|------------------------|----------|
| | |
| | |
| | |
| | |
| | |
| | |
| | |
| | |

Si tienes tiempo, escribe otra ecuación para cada uno de los números del 11 al 19.

Actividad 2

Ecuaciones con una decena

En cada caso, encuentra el número que hace que la ecuación sea verdadera.

Muestra cómo pensaste. Usa dibujos, números o palabras.

1. $14 = 10 + \square$

2. $10 + 5 = \square$

3. $16 = \square + 6$

4. $10 + \square = 12$

5. $\square + 3 = 13$

6. $13 = \square + 10$