



¿Cuántos más hay? ¿Cuántos menos hay?

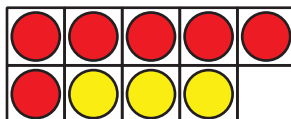
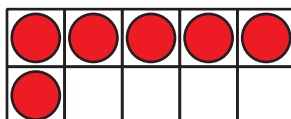
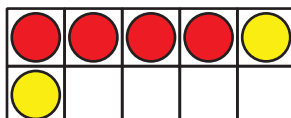
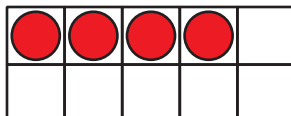
Encontremos la diferencia entre las cantidades.



Cuántos ves: Tablero de 10

¿Cuántos ves?

¿Cómo lo sabes?, ¿qué ves?



Actividad 1

Saquen sus tableros


Hay 9 tableros.

Hay 6 marcadores.

¿Hay más tableros o más marcadores?

¿Cuántos más?

Muestra cómo pensaste. Usa dibujos, números o palabras.



Actividad 2

Comparemos problemas

1. Hay 7 carpetas.

Hay 9 bolígrafos.

¿Hay menos carpetas o menos bolígrafos?

¿Cuántos menos?

Muestra cómo pensaste. Usa dibujos, números o palabras.

2. Hay 5 lápices.

Hay 8 marcadores.

¿Hay más lápices o más marcadores?

¿Cuántos más?

Muestra cómo pensaste. Usa objetos, dibujos, números o palabras.

