



# Dominós hasta 5

Formemos números hasta 5.


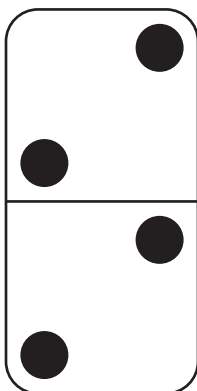
Calentamiento

## Observa y pregúntate: Maneras de formar 4

¿Qué observas?

¿Qué te preguntas?

$$2 + 2$$



## Actividad 1

### Clasificación de tarjetas: Dominós

Escoge 1 grupo.

Escribe expresiones de los puntos.

---

---

---

---

---

---



## Actividad 2

### Comparemos puntos en dominós

Voltea una tarjeta.

¿Hay menos o el mismo número?

¿Hay más o el mismo número?

## Actividad 3

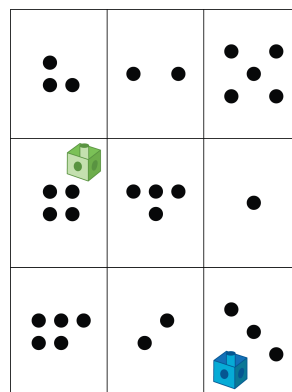
### Centros: Momento de escoger

Escoge un centro.

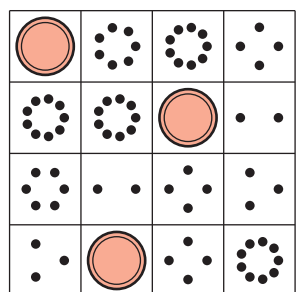
Tableros de 5




Lanza y suma



Bingo



Bloques sólidos geométricos



Encuentra el valor de expresiones

$$3+5 \quad 7-5$$