



# Expresiones de suma y de resta hasta 5

Sumemos y restemos.

Calentamiento

## Cuáles tres van juntos: Expresiones y ecuaciones

¿Cuáles 3 van juntos?

**A**

$$3 + 1$$

**B**

$$3 = 2 + 1$$

**C**

$$3 + 0$$

**D**

$$4 - 1$$

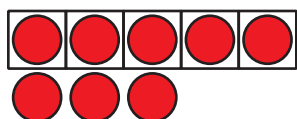


## Actividad 3

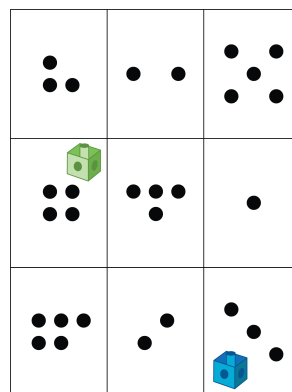
### Centros: Momento de escoger

Escoge un centro.

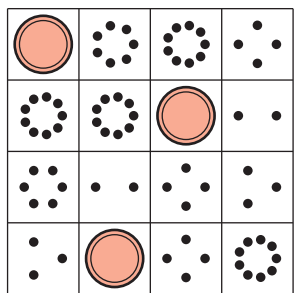
Tableros de 5




Lanza y suma



Bingo



Bloques sólidos geométricos



Encuentra el valor de expresiones

$$3+5 \quad 7-5$$

