



# Construyamos y contemos con figuras sólidas

Construyamos y contemos con figuras sólidas.



## Exploración de estimación: ¿Cuántos cubos?

1. Escribe una estimación que sea:

muy baja	razonable	muy alta

2. Escribe una estimación que sea:

muy baja	razonable	muy alta

## Actividad 1

### Una torre alta

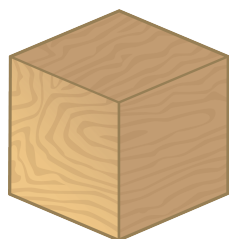
¿Cuántas usaste?

---

## Actividad 2

### ¿Qué pueden hacer con estas figuras?


1. 5 cubos



4 cilindros




6 conos



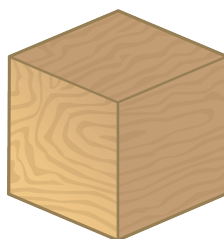
¿Cuántas figuras usaste?

---

2. 3 conos



4 cubos



5 cilindros



¿Cuántas usaste?

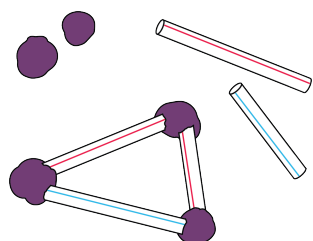
---

## Actividad 3


### Centros: Momento de escoger

Escoge un centro.


Construye figuras



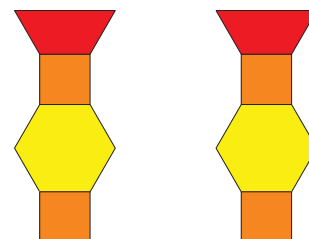
Bloques sólidos geométricos



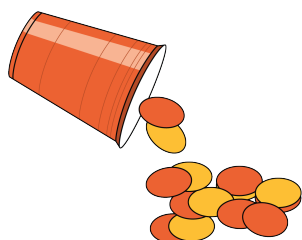
Contar colecciones



Haz una como la mía



Revuelve y saca







## Resumen de la sección B

Podemos formar figuras sólidas y hablar sobre ellas.

cubo



cono




cilindro



esfera



Vemos figuras sólidas.



Usamos figuras sólidas.

