



# Rompecabezas de fichas geométricas y ecuaciones

Usemos ecuaciones.

Calentamiento

## Cuáles tres van juntos: Ecuaciones

¿Cuáles 3 van juntas?

A

$$10 - 4 = 6$$

B

$$4 + 3 = 7$$

C

$$6 = 4 + 2$$

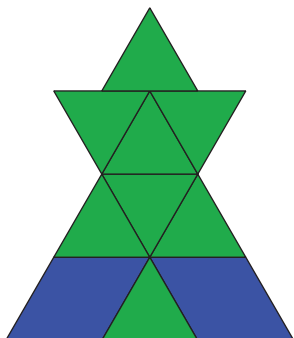
D

$$3 + 3 = 6$$



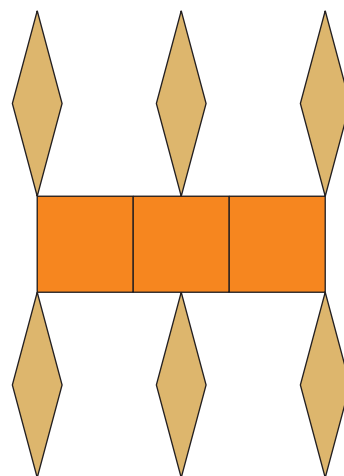
## Actividad 1

### Asociemos ecuaciones con rompecabezas de fichas geométricas

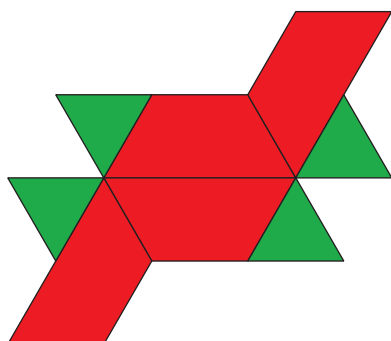


$$8 = 4 + 4$$

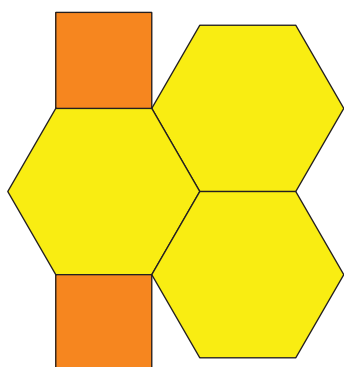
$$6 + 1 = 7$$



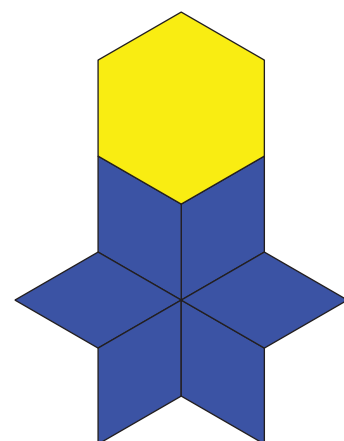
$$10 = 2 + 8$$



$$7 = 6 + 1$$



$$2 + 3 = 5$$



$$9 = 6 + 3$$

## Actividad 2

# Armamos figuras para representar ecuaciones

$$4 = 1 + 3$$

$$10 + 0 = 10$$



$$5 + 4 = 9$$

$$8 = 2 + 6$$



$$3 + 3 = 6$$

$$7 = 2 + 5$$

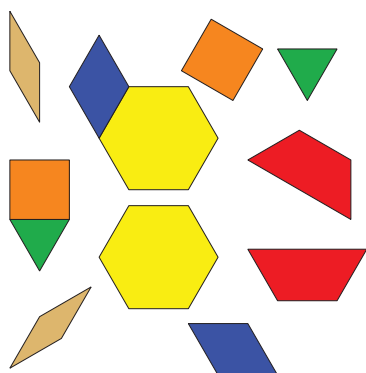


## Actividad 3


### Centros: Momento de escoger

Escoge un centro.


Fichas geométricas



Bloques sólidos geométricos



Agarra y cuenta



Encuentra la pareja

