

Card Sort: At the Beach, Spanish, Spanish

**A**

Lin encuentra 28 conchas más que  
Diego.  
Diego encuentra 32 conchas.  
¿Cuántas conchas encuentra Lin?

Card Sort: At the Beach, Spanish, Spanish

**B**

Lin cuenta 28 botes.  
Diego cuenta 32 botes.  
¿Cuántos botes más cuenta él?

Card Sort: At the Beach, Spanish, Spanish

**C**

Lin observa 32 estrellas de mar.  
Diego observa 28 estrellas de mar  
menos que Lin.  
¿Cuántas estrellas de mar observa él?

Card Sort: At the Beach, Spanish, Spanish

**D**

Lin encuentra 40 cangrejos  
menos que Diego.  
Diego encuentra 57 cangrejos.  
¿Cuántos cangrejos encuentra Lin?

Card Sort: At the Beach, Spanish, Spanish

**E**

Lin cuenta 57 sillas de playa.  
Lin cuenta 40 personas más  
que sillas.  
¿Cuántas personas cuenta?

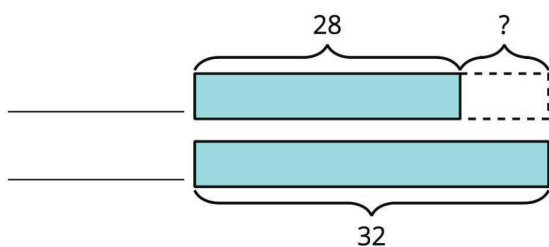
Card Sort: At the Beach, Spanish, Spanish

**F**

Diego ve 40 gaviotas.  
Lin ve 57 gaviotas.  
¿Cuántas gaviotas menos ve Diego?

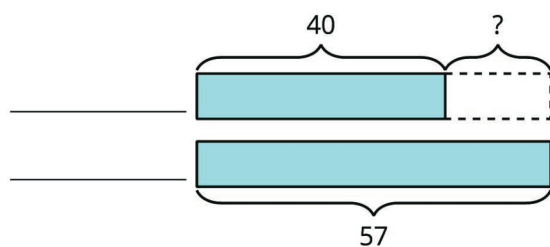
Card Sort: At the Beach, Spanish, Spanish

**G**



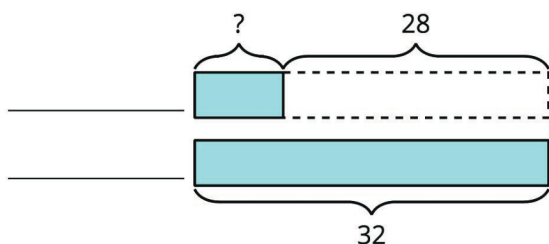
Card Sort: At the Beach, Spanish, Spanish

**H**



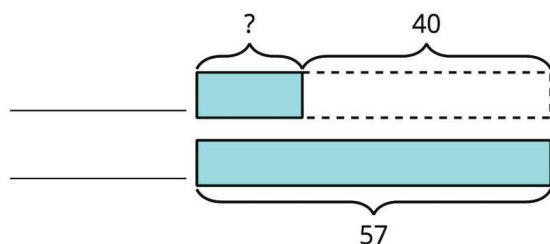
Card Sort: At the Beach, Spanish, Spanish

**I**



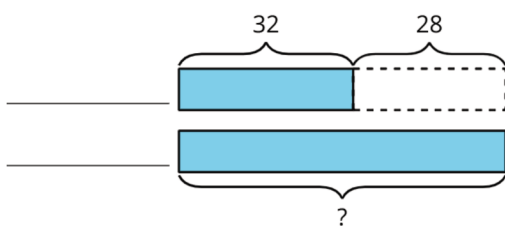
Card Sort: At the Beach, Spanish, Spanish

**J**



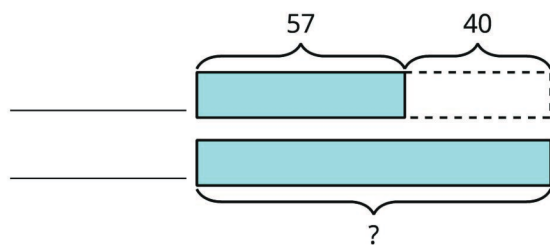
Card Sort: At the Beach, Spanish, Spanish

**K**



Card Sort: At the Beach, Spanish, Spanish

**L**



Card Sort: At the Beach, Spanish, Spanish

M

$$32 - 28 = ?$$

Card Sort: At the Beach, Spanish, Spanish

N

$$57 - 40 = ?$$

Card Sort: At the Beach, Spanish, Spanish

O

$$28 + ? = 32$$

Card Sort: At the Beach, Spanish, Spanish

P

$$40 + ? = 57$$

Card Sort: At the Beach, Spanish, Spanish

Q

$$32 + 28 = ?$$

Card Sort: At the Beach, Spanish, Spanish

R

$$57 + 40 = ?$$