



Ecuaciones de multiplicación

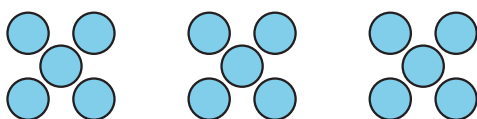
Aprendamos sobre ecuaciones de multiplicación.

Calentamiento

Cuáles tres van juntas: Representaciones

¿Cuáles 3 van juntas?

A



B

$$3 \times 5$$

C

$$2 \times 5 = 10$$

D

$$7 + 8 = 15$$

Actividad 1

¿A cuál ecuación de multiplicación corresponde?

Encuentra una ecuación de la lista que represente cada situación, dibujo o diagrama. Escribe la ecuación. Prepárate para explicar tu razonamiento.

• $3 \times 5 = 15$

• $4 \times 10 = 40$

• $2 \times 10 = 20$

• $10 = 5 \times 2$

• $30 = 6 \times 5$

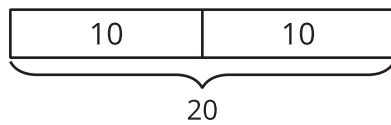
• $4 \times 2 = 8$

• $16 = 8 \times 2$

• $4 \times 5 = 20$

• $50 = 5 \times 10$

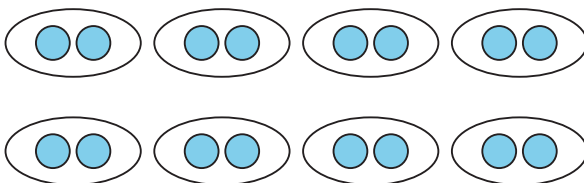
1.



2.

Andre tiene 5 pares de calcetines.

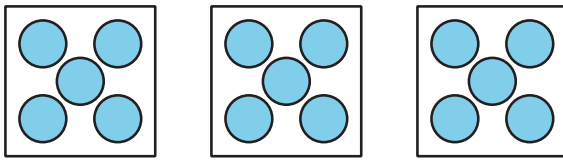
3.



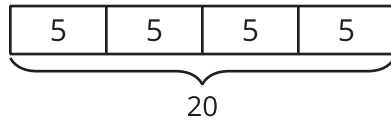
4.

Hay 6 manos sobre la mesa. Cada mano tiene 5 dedos.

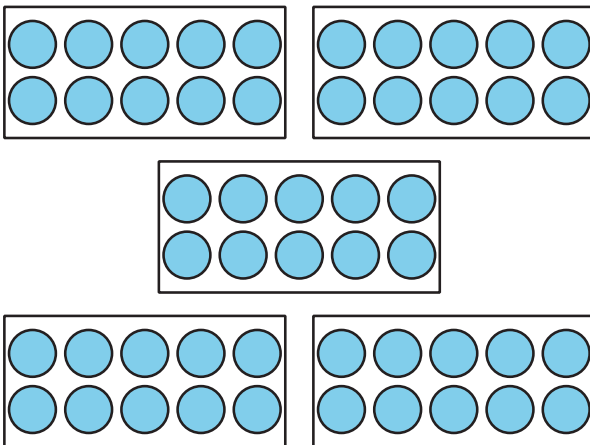
5.



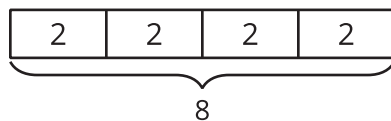
6.



7.



8.



9.

Hay 4 cajas de marcadores. En cada caja hay 10 marcadores.

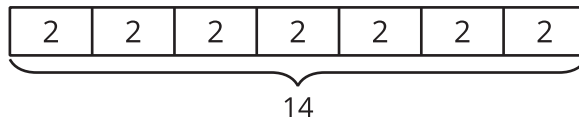
Actividad 2

Escribamos ecuaciones de multiplicación

Escribe una ecuación de multiplicación que represente cada situación, dibujo o diagrama. Prepárate para explicar tu razonamiento.

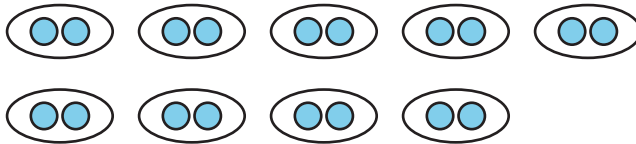
1. Un paquete tiene 6 pares de calcetines.

2.

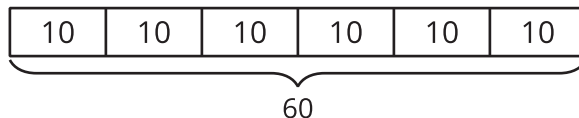


3. El cuaderno de Diego tiene 7 secciones. Cada sección tiene 10 páginas.

4.



5.



6. Elena tiene 4 bolsas de naranjas. En cada bolsa hay 5 naranjas.

7.

