



Resta a tu manera

Restemos números hasta 1,000.

Calentamiento

Conversación numérica: Restemos números de dos dígitos

Encuentra mentalmente el valor de cada expresión.

- $50 - 10$

- $58 - 10$

- $258 - 20$

- $258 - 24$



Actividad 1

Estrategias para restar

Encuentra el valor de cada diferencia de cualquier forma que tenga sentido para ti. Explica o muestra tu razonamiento.

1. $428 - 213$

2. $505 - 398$

3. $394 - 127$

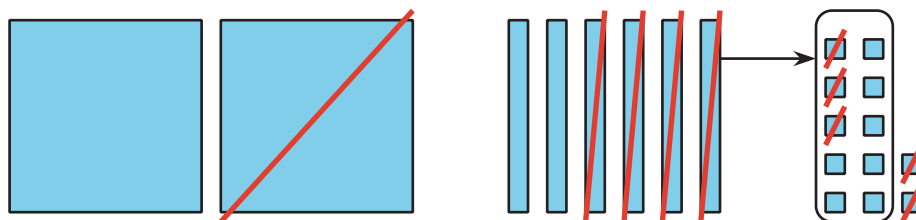


Actividad 2

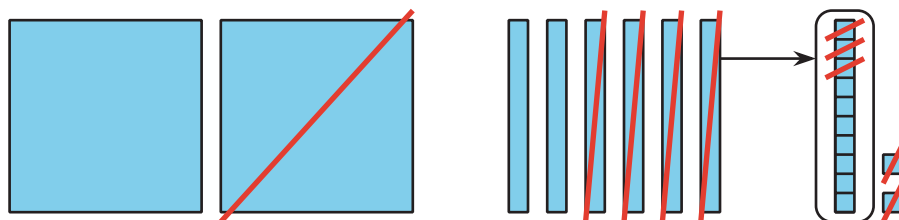
Dibujos en base diez

1. Jada y Han hicieron dibujos para mostrar cómo usaron los bloques en base diez para encontrar el valor de $262 - 135$.

El dibujo de Jada



El dibujo de Han



¿En qué se parecen los dibujos? ¿En qué son diferentes?

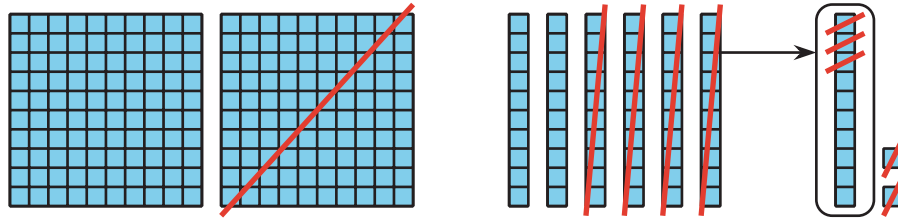
2. Estas son 3 expresiones. Más abajo hay 3 diagramas. Escribe cada expresión al lado del diagrama que la representa. Después encuentra el valor de cada expresión.

$$252 - 181$$

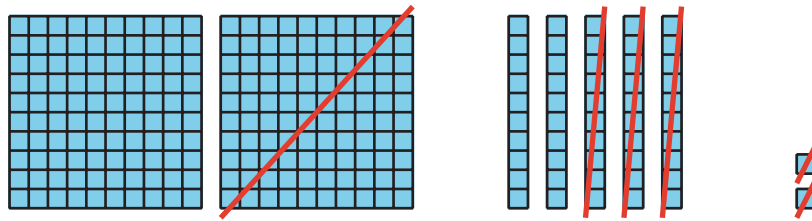
$$262 - 135$$

$$252 - 132$$

a.



b.



c.

