



# Contemos 2 grupos de objetos

Contemos objetos de 2 grupos.




## Calentamiento


### Cuáles tres van juntos: Grupos

¿Cuáles 3 van juntos?

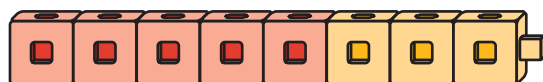
A



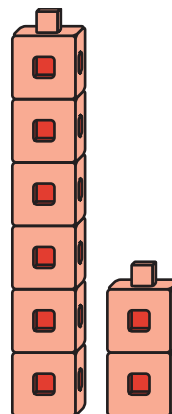
B



C



D



## Actividad 1

# Juntemos fichas geométricas

¿Cuántas tienes?

Tengo

---

---

---

fichas  
geométricas.

## Actividad 2

### Juntemos cubos encajables

¿Cuántos cubos tienen?

Tenemos

\_\_\_\_\_

-----

\_\_\_\_\_

cubos.

Tenemos

\_\_\_\_\_

-----

\_\_\_\_\_


cubos.

## Actividad 3


# Conozcamos “Construcción de torres: Cuenta y construye para obtener 10”

Escoge un centro.

Construcción de torres



Mi mate-libreta



Haz una como la mía

