



# Encontremos el número con el que se forma 10

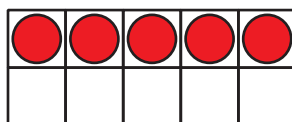

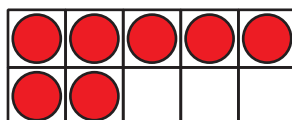
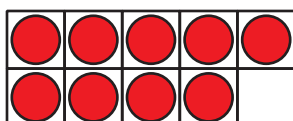
Sumemos para formar 10.



## Cuántos ves: Formemos 10

¿Cuántos ves?

¿Cómo lo sabes?, ¿qué ves?



## Actividad 1

### Coloreemos el número con el que se forma 10

- Compañero A: colorea 1 número.
- Compañero B: colorea otro número para formar 10. Usa el mismo color.
- Háganlo por turnos. Cambien de color.

10	5	3	2
7	1	9	8
4	8	9	4
6	2	3	0
1	7	5	6

Forma 10.

Completa la ecuación.

$$10 = \underline{\quad\quad} + \underline{\quad\quad}$$

## Actividad 2

### Sumemos para formar 10

Forma 10.

•  $10 = 9 + \underline{\hspace{2cm}}$

•  $10 = 3 + \underline{\hspace{2cm}}$

•  $10 = 5 + \underline{\hspace{2cm}}$

•  $10 = 4 + \underline{\hspace{2cm}}$

•  $10 = 8 + \underline{\hspace{2cm}}$

•  $10 = 7 + \underline{\hspace{2cm}}$

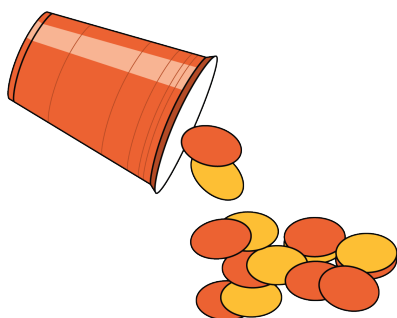


## Actividad 3

### Centros: Momento de escoger

Escoge un centro.


Revuelve y saca



Carrera con números



Agarra y cuenta



¿Qué hay a mis espaldas?



Fichas geométricas

