



# Ordenemos números del 1 al 20

Ordenemos los números.

## Actividad 1

### Ordenemos números

Escribe los números del 1 al 20.

---

---

---

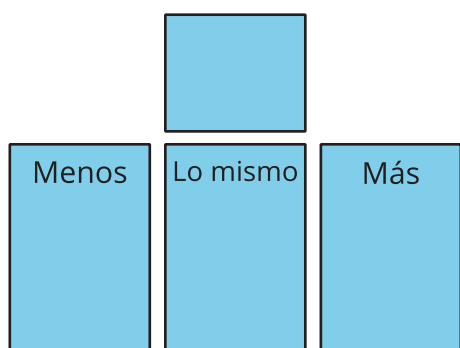
---

## Actividad 3


### Centros: Momento de escoger

Escoge un centro.

Menos, lo mismo, más


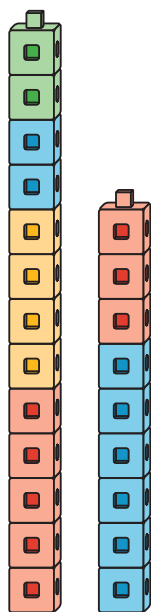


Dedos matemáticos



Historias matemáticas

Construcción de torres



¿Cuál es?

