



Usemos gráficas de dibujos y gráficas de barras para representar datos

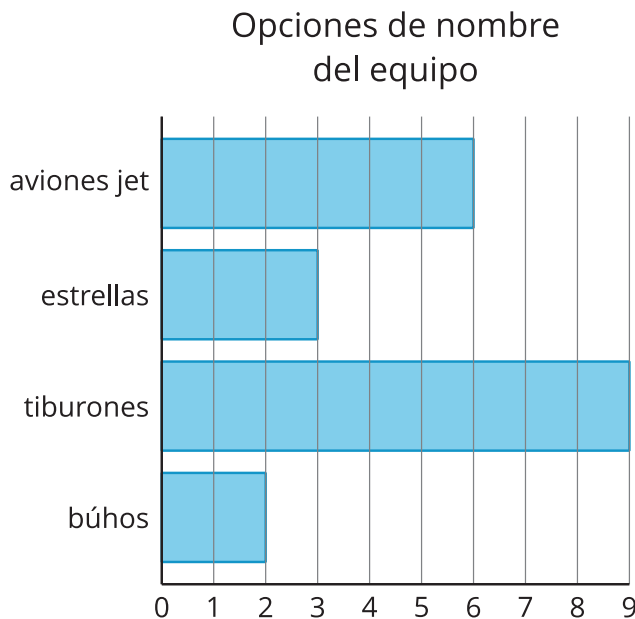
Hagamos nuestras propias gráficas de dibujos y de barras.

Calentamiento

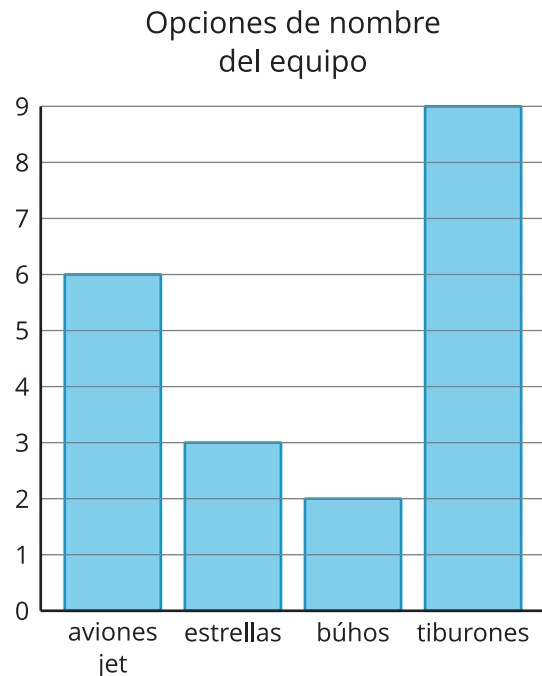
Cuáles tres van juntos: Datos

¿Cuáles 3 van juntas?

A


























B



C

Opciones de nombre del equipo

| | | | |
|---|---|---|---|
| | |  | |
| | |  | |
| | |  | |
|  | |  | |
|  | |  | |
|  | |  | |
|  |  |  | |
|  |  |  | |
|  |  |  |  |
|  |  |  |  |
| aviones jet | estrellas | tiburones | búhos |

D

| | | | |
|-------------|-----------|-----------|-------|
| aviones jet | estrellas | tiburones | búhos |
| 6 | 3 | 9 | 2 |

Actividad 1

Hagamos gráficas de dibujos

Deportes favoritos de los estudiantes de segundo grado

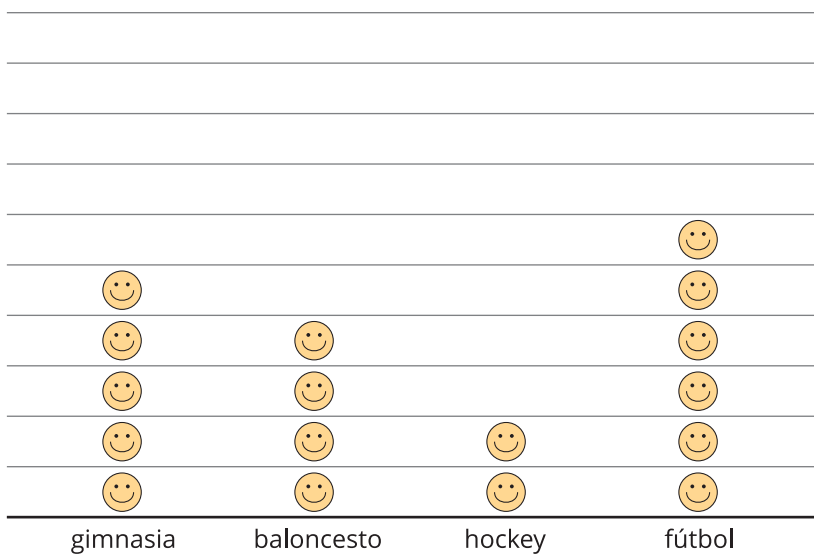
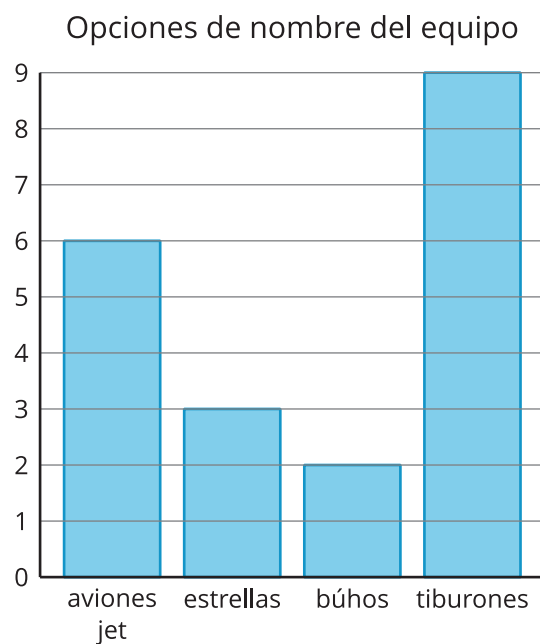


Tabla # _____

[illegible]

Actividad 2

Dibujemos gráficas de barras



Representa en una gráfica de barras los datos de tu tabla.

Tabla # _____

[illegible]