



Sumemos 0 y 1

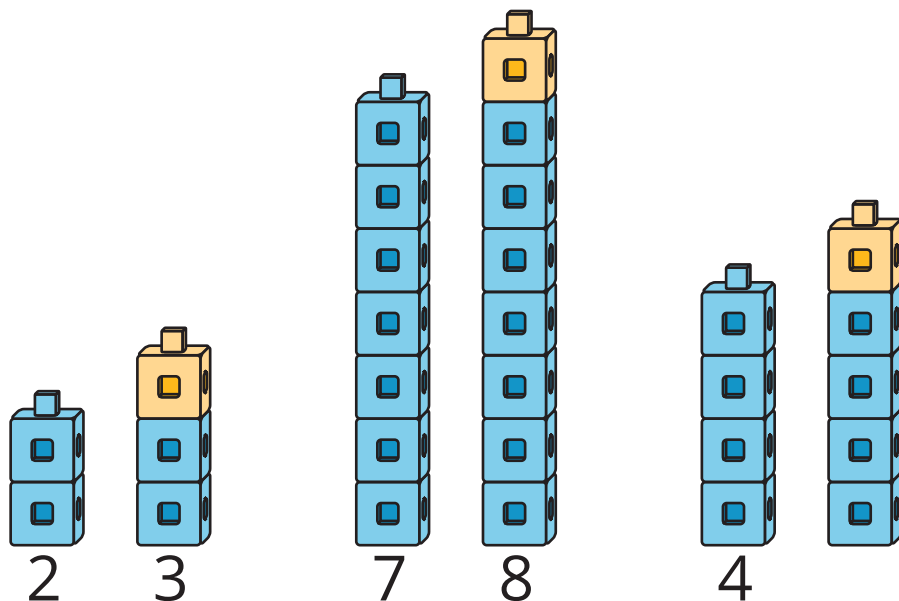
Veamos lo que ocurre cuando sumamos 0 o 1.

Calentamiento

Observa y pregúntate: Sumar 1 más

¿Qué observas?

¿Qué te preguntas?



Actividad 1

Sumemos 0 y 1

$4 + \underline{\hspace{2cm}}$

$2 + \underline{\hspace{2cm}}$

$8 + \underline{\hspace{2cm}}$



$3 + \underline{\hspace{2cm}}$

$9 + \underline{\hspace{2cm}}$

$1 + \underline{\hspace{2cm}}$



Actividad 2

Observemos patrones con + 0 y + 1

$4 + 0$

4



$2 + 0$

2



$8 + 0$

8



$3 + 1$

4



$9 + 1$

10



$1 + 1$

2



Actividad 3

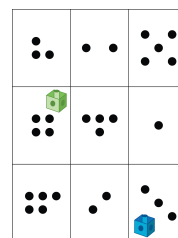
Conozcamos “Encuentra el valor de expresiones: Colorea el total o la diferencia”

Escoge un centro.

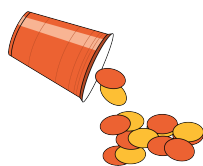
Encuentra el valor de expresiones

$$3+5 \quad 7-5$$

Lanza y suma




Revuelve y saca



Historias matemáticas



Carrera con números





Resumen de la sección C

Podemos usar números y símbolos para sumar y restar.

Podemos asociar expresiones con problemas-historia y dibujos.

$$8 - 6$$



$$2 + 1$$



Usamos nuestros dedos, objetos y dibujos para encontrar valores.

$$4 + 2$$

