



# Construyamos con figuras sólidas

Construyamos con figuras sólidas.



## Conversación numérica: Restemos 1 y 2

Encuentra el valor de cada expresión.

•  $3 - 1$

•  $3 - 2$

•  $4 - 2$

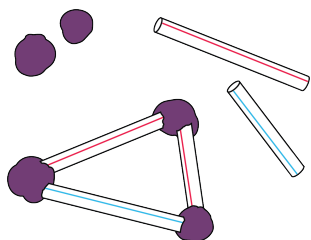
•  $5 - 1$

## Actividad 3


# Conozcamos “Haz una como la mía: Figuras sólidas”

Escoge un centro.


Construye figuras



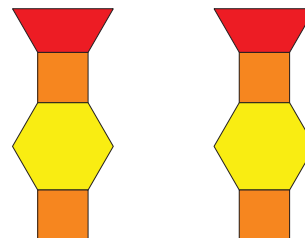
Bloques sólidos geométricos



Contar colecciones



Haz una como la mía



Revuelve y saca

