



¿Cómo medimos el área?

Usemos fichas cuadradas para medir el área.

Calentamiento

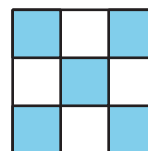
Cuáles tres van juntos: Figuras con cuadrados

¿Cuáles tres van juntas?


A



B



C




D



Actividad 1

Construyamos y comparemos

1. Toma un puñado de fichas cuadradas.
2. Haz una figura plana uniendo las fichas.
3. Con tu grupo, ordena las figuras de la más pequeña a la más grande.



Actividad 2

Usemos fichas cuadradas para medir el área

Tu profesor te va a dar unas hojas que tienen figuras.

Usa fichas cuadradas para encontrar el área de cada figura. El área de cada ficha es 1 unidad cuadrada. Escribe tus respuestas aquí. Prepárate para explicar tu razonamiento.

1. Área: ____ unidades cuadradas

2. Área: ____ unidades cuadradas

3. Área: ____ unidades cuadradas

4. Área: ____ unidades cuadradas

5. Área: ____ unidades cuadradas

6. Área: ____ unidades cuadradas

