



# Una de las partes, todas las partes


Describamos partes iguales de figuras.

## Calentamiento


### Cuáles tres van juntos: Figuras partidas

¿Cuáles 3 van juntas?

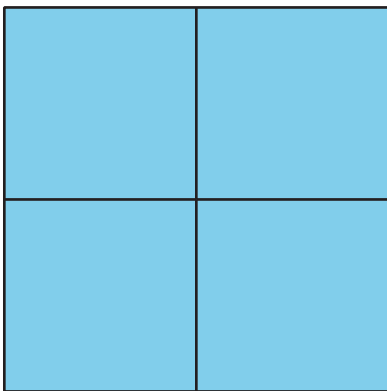
**A**



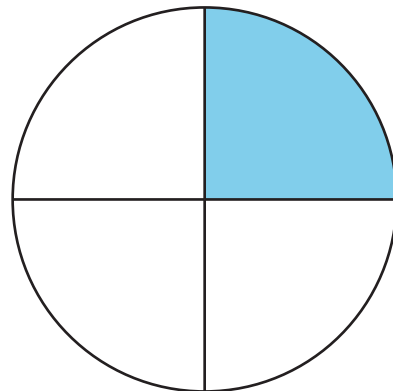
**B**



**C**




**D**



## Actividad 1


### Colorea una parte

1. Parte el cuadrado en mitades.



Colorea 1 de las mitades.  
¿Cuánto del cuadrado está coloreado?

2. Parte el círculo en cuartos.



Colorea 1 de los cuartos.  
¿Cuánto del círculo esta coloreado?

## Actividad 2

### Clasificación de tarjetas: Partes sombreadas

Clasifica tus tarjetas en estas categorías.

Un cuarto está sombreado.

Una mitad  
está sombreada.



Toda la figura  
está sombreada.

Las partes *no*  
son iguales.



## Actividad 3

### Describamos partes iguales

Escoge una o más frases que describan cada figura.

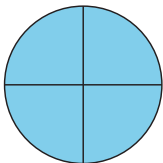
- partida en cuartas partes
- partida en mitades
- partida en cuartos
- una mitad sombreada
- un cuarto sombreado
- una cuarta parte sombreada
- 2 mitades sombreadas
- 4 cuartos sombreados

1.




---

2.



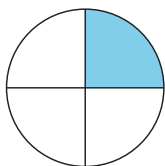
---

3.



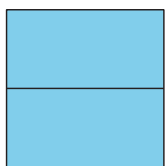
---

4.



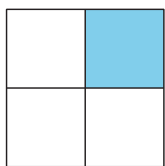
---

5.



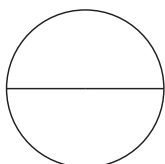
---

6.



---

7.



---

