

## Día 3 de centros

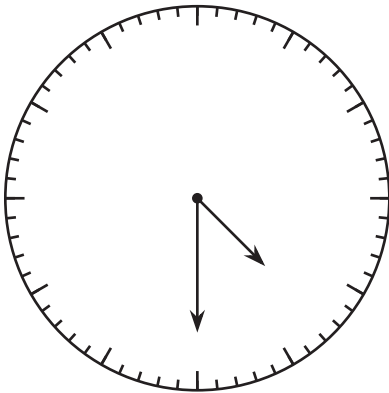
Trabajemos con figuras y números.

### Calentamiento

### Cuáles tres van juntos: Relojes

¿Cuáles 3 van juntos?

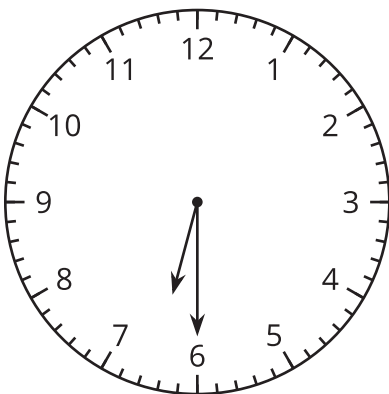
**A**



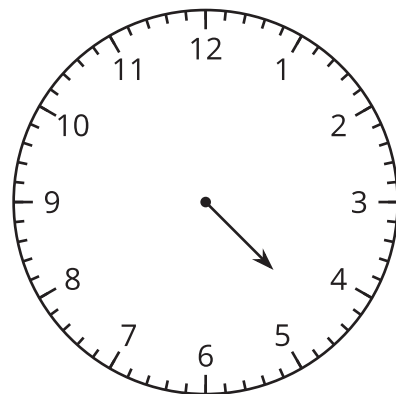
**B**

4:30

**C**



**D**




## Actividad 2

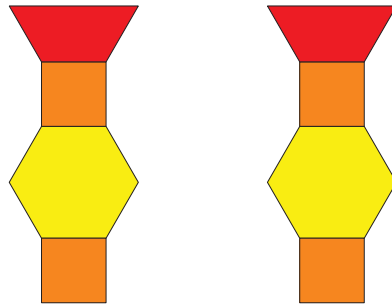
### Centros: Momento de escoger

Escoge un centro.

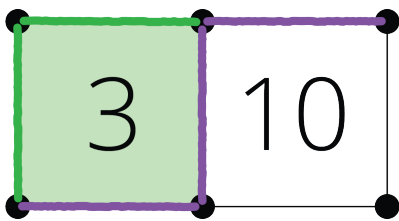
¿Puedes dibujarla?



Haz una como la mía



Captura cuadrados



Números objetivo

