



Escribamos números de 2 dígitos

Escribamos números de 2 dígitos.

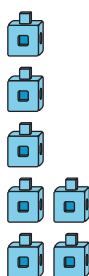


Observa y pregúntate: Mismo dígito, posición diferente

¿Qué observas?


¿Qué te preguntas?

A



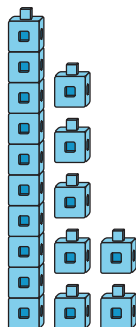
7

B




70

C



17

D



71

Actividad 1

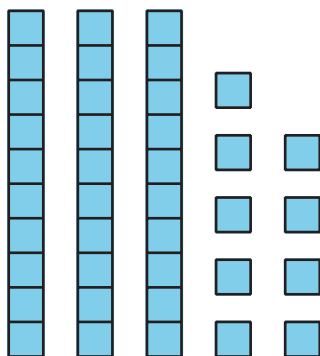
Escribamos números que correspondan a representaciones en base diez

Escribe el número que corresponda a cada representación.

1. 1 decena 4 unidades

Número: _____

2.



Número: _____

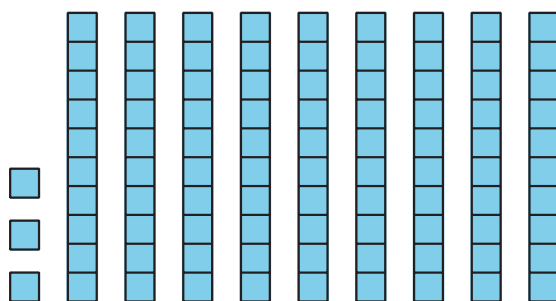
3. 9 decenas

Número: _____

4. $20 + 5$

Número: _____

5.



Número: _____

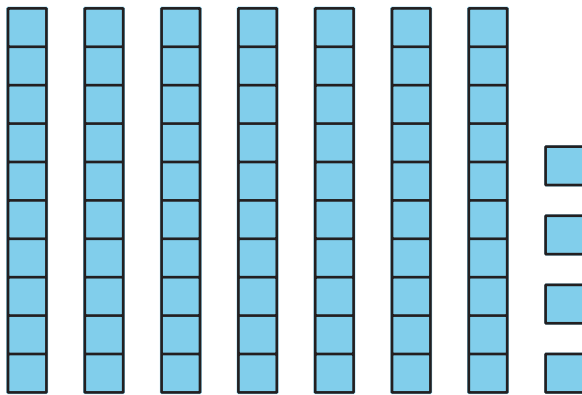
6. $7 + 40$

Número: _____

7. 2 unidades 8 decenas

Número: _____

8.

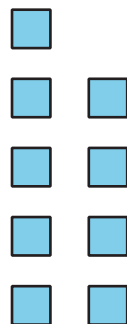


Número: _____

9. $1 + 40$

Número: _____

10.



Número: _____