



Comparemos y ordenemos números

Comparemos y ordenemos números.

Calentamiento

Cuáles tres van juntos: Comparemos afirmaciones

¿Cuáles 3 van juntas?

A

$$5 < 20$$

B

$$25 < 35$$

C

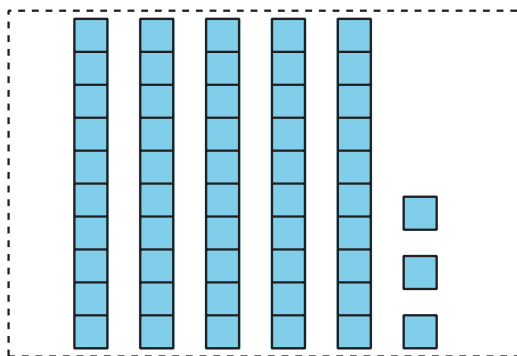
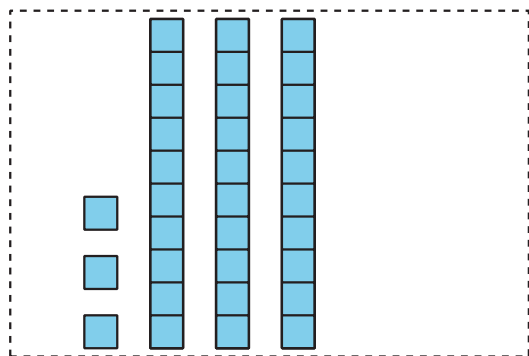
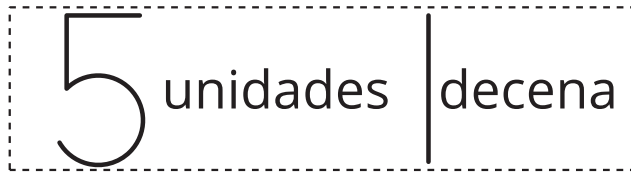
$$35 < 20$$

D

$$30 > 20$$

Actividad 1

Comparemos y ordenemos cantidades



Escoge un grupo de tarjetas.

Ordena las tarjetas de menor a mayor.

Prepárate para explicar cómo ordenaste tus tarjetas.

Escribe los números en orden, de menor a mayor.

Grupo A: _____

Grupo B: _____

Grupo C: _____

Grupo D: _____



Si te queda tiempo:

Mezcla 2 grupos de tarjetas.

Ordénalas de menor a mayor.

Actividad 2

Ordenemos números

1. Estos son algunos números en orden:

1 5 10 50 99

Agrega estos números a la lista:

- 49
- 8
- 25
- 98
- 13

Asegúrate de que todos los números estén ordenados de menor a mayor.

2. Escoge 2 números. Explica cómo supiste dónde ubicarlos.

◦ Yo sabía dónde ubicar porque

◦ Yo sabía dónde ubicar porque

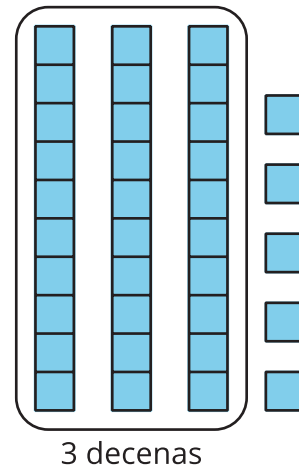
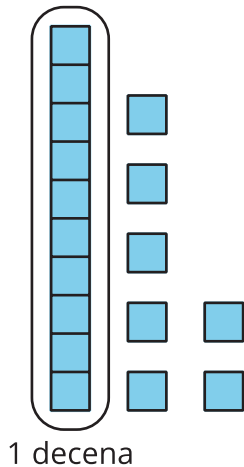
3. En cada caso, escribe un número que haga que la afirmación de comparación sea verdadera.

$25 <$

$25 >$

Resumen de la sección C

Usamos el número de decenas y unidades para comparar números.



17 tiene 1 decena y 35 tiene 3 decenas, entonces 17 es menor que 35.

$$17 < 35$$

17 es **menor que** 35.

$$35 > 17$$

35 es **mayor que** 17.

$$35 = 35$$

35 es **igual a** 35.