



# Sumar y restar con decenas

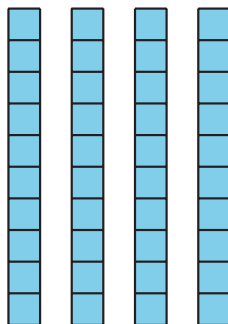
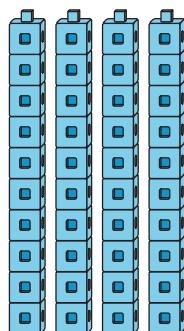
Sumemos y restemos 10.



## Cuántos ves: Grupos de 10

¿Cuántos ves?

¿Cómo lo sabes?, ¿qué ves?



## Actividad 1

### ¿Cuántas decenas tienen ahora?

1. Muestra cómo pensaste. Usa dibujos, números o palabras.

a. Muestra 1 decena.

Suma una decena.

¿Cuántas tienes ahora?

b. Suma otra decena.

¿Cuántas tienes ahora?

c. Suma otra decena.  
¿Cuántas tienes ahora?

d. Suma otra decena.  
¿Cuántas tienes ahora?

e. Suma otra decena.  
¿Cuántas tienes ahora?

f. Suma otra decena.  
¿Cuántas tienes ahora?

g. Suma otra decena.  
¿Cuántas tienes ahora?

h. Suma otra decena.  
¿Cuántas tienes ahora?

2. Muestra cómo pensaste. Usa dibujos, números o palabras.

a. Muestra 9 decenas.

Quita una decena.

¿Cuántas tienes ahora?

b. Quita otra decena.

¿Cuántas tienes ahora?

c. Quita otra decena.  
¿Cuántas tienes ahora?

d. Quita otra decena.  
¿Cuántas tienes ahora?



e. Quita otra decena.  
¿Cuántas tienes ahora?


f. Quita otra decena.  
¿Cuántas tienes ahora?

g. Quita otra decena.  
¿Cuántas tienes ahora?

h. Quita otra decena.  
¿Cuántas tienes ahora?

## Actividad 2

### Conozcamos “Cinco en línea: Suma o resta 10”



Anota tu ronda favorita.

Muestra cómo pensaste. Usa dibujos, números o palabras.

## Actividad 3

### Centros: Momento de escoger

Escoge un centro.

Cinco en línea



¿Qué tan cerca?

$$\begin{array}{|c|c|} \hline \square \\ \hline \end{array} \begin{array}{|c|c|} \hline \square \\ \hline \end{array} + \begin{array}{|c|c|} \hline \square \\ \hline \end{array} \begin{array}{|c|c|} \hline \square \\ \hline \end{array} = \underline{\hspace{2cm}}$$

Acertijos numéricos

$$14 = 8 + \begin{array}{|c|} \hline \square \\ \hline \end{array}$$