



Más suma y resta con decenas

Sumemos y restemos decenas.



Conversación numérica: Más o menos 10

Encuentra mentalmente el valor de cada expresión.

- $30 + 10$

- $40 + 10$

- $80 - 10$

- $70 - 10$

Actividad 1

¿Cuántos hay en la bolsa?

1. Jada está contando colecciones de cubos.

La bolsa A tiene 30 cubos.

La bolsa B tiene 2 torres de 10.

¿Cuántos cubos hay en total en las 2 bolsas?

Muestra cómo pensaste. Usa dibujos, números o palabras.

2. Tyler está contando una colección de cubos.

La bolsa C tiene 7 torres de 10.

Él saca 40 cubos de la bolsa.

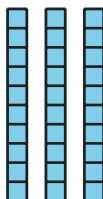
¿Cuántos cubos le quedan en la bolsa?

Muestra cómo pensaste. Usa dibujos, números o palabras.


Actividad 2

Suma y resta decenas

1. Suma 20:



2. Resta 20:



3. 4 decenas y 5 decenas es _____

4. Tengo 8 decenas y quito 3 decenas, quedan _____



5. $20 + 60 =$


6. $70 - 20 =$

7. $90 - 70 =$

8. $40 + 40 =$

Resumen de la sección A

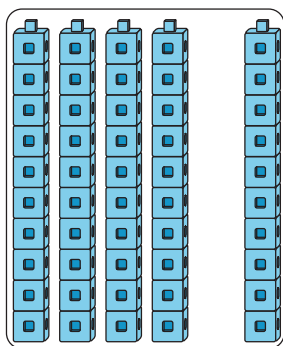
Aprendimos cómo mostrar decenas de diferentes formas.



6 decenas

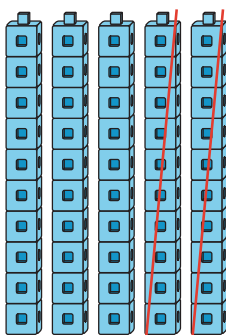
60

Aprendimos cómo sumarle y restarle decenas a otras decenas.



4 decenas y 1 decena son 5 decenas

$$40 + 10 = 50$$



Tengo 5 decenas y quito 2 decenas,
quedan 3 decenas

$$50 - 20 = 30$$