



# Números con decenas y unidades

Aprendamos más sobre decenas y unidades.



## Observa y pregúntate: Números de 1 y 2 dígitos

Conjunto A

0

1

2

3

4

5

6

7

8

9

Conjunto B

10

23

45

76

89

# Actividad 1

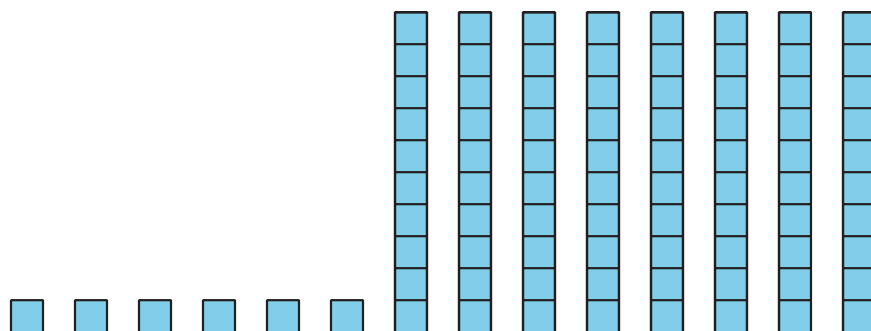
## Fórmalo: Decenas y unidades

número de 2 dígitos	dibujo	____ decenas ____ unidades

número de 2 dígitos	dibujo	_____ decenas _____ unidades

## Actividad 2

### ¿Con quién estás de acuerdo?



Clare dice que esto muestra 68 (sesenta y ocho).

Diego dice que esto muestra 86 (ochenta y seis).

¿Con quién estás de acuerdo?

Explica cómo pensaste.

Estoy de acuerdo con \_\_\_\_\_ porque

---

---

---

---


---

## Actividad 3

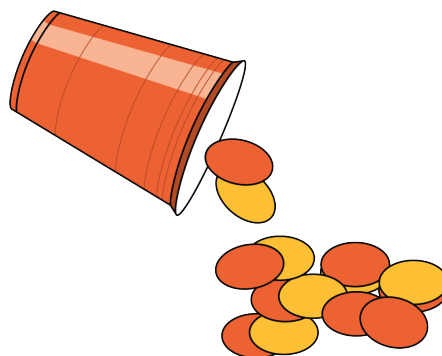
### Centros: Momento de escoger

Escoge un centro.

Contar colecciones



Revuelve y saca



Qué tan cerca

+   = \_\_\_\_\_

Márcalo

