

Card Sort: At the Beach, Spanish

Card Sort: At the Beach, Spanish

A

Lin encontró 28 conchas marinas
más que Diego.
Diego encontró 32 conchas marinas.
¿Cuántas conchas marinas encontró
Lin?

Card Sort: At the Beach, Spanish

B

Lin contó 28 botes.
Diego contó 32 botes.
¿Cuántos botes más contó Diego?

Card Sort: At the Beach, Spanish

C

Lin vio 32 estrellas de mar.
Diego vio 28 estrellas de mar
menos que Lin.
¿Cuántas estrellas de mar vio Diego?

Card Sort: At the Beach, Spanish

D

Lin encontró 40 cangrejos
menos que Diego.
Diego encontró 57 cangrejos.
¿Cuántos cangrejos encontró Lin?

Card Sort: At the Beach, Spanish

E

Lin contó 57 sillas de playa.
Ella contó 40 personas más
que sillas.
¿Cuántas personas contó?

Card Sort: At the Beach, Spanish

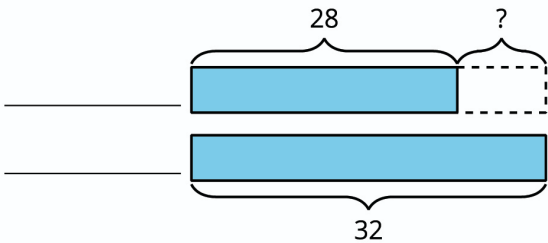
F

Diego vio 40 gaviotas.
Lin vio 57 gaviotas.
¿Cuántas gaviotas menos vio Diego?

Card Sort: At the Beach, Spanish

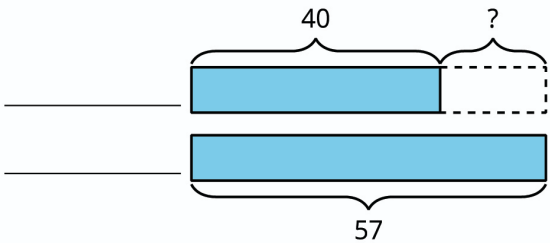
Card Sort: At the Beach, Spanish

G



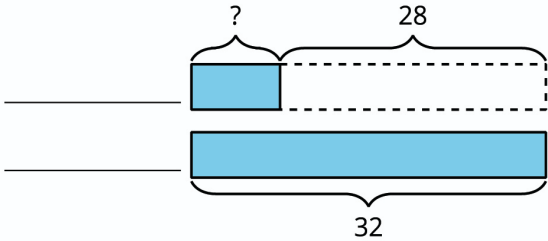
Card Sort: At the Beach, Spanish

H



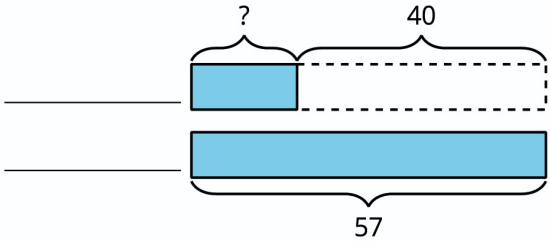
Card Sort: At the Beach, Spanish

I



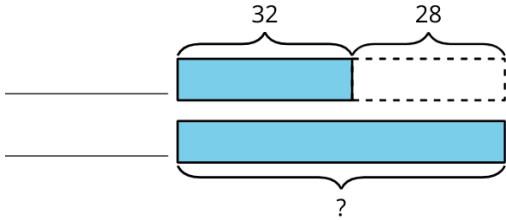
Card Sort: At the Beach, Spanish

J



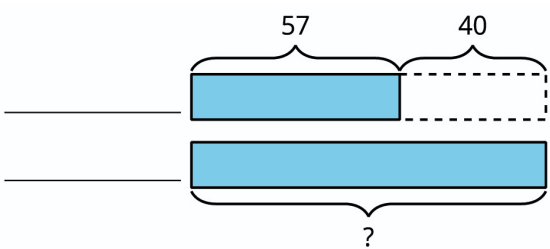
Card Sort: At the Beach, Spanish

K



Card Sort: At the Beach, Spanish

L



Card Sort: At the Beach, Spanish

Card Sort: At the Beach, Spanish

M

$$32 - 28 = ?$$

Card Sort: At the Beach, Spanish

N

$$57 - 40 = ?$$

Card Sort: At the Beach, Spanish

O

$$28 + ? = 32$$

Card Sort: At the Beach, Spanish

P

$$40 + ? = 57$$

Card Sort: At the Beach, Spanish

Q

$$32 + 28 = ?$$

Card Sort: At the Beach, Spanish

R

$$57 + 40 = ?$$