



Formemos y separemos diseños con fichas geométricas

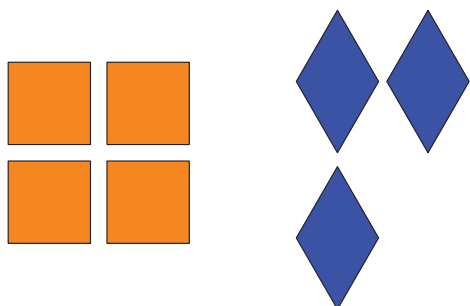
Formemos y separemos diseños hechos con fichas geométricas.




Cuáles tres van juntos: Diseños con fichas geométricas

¿Cuáles 3 van juntos?

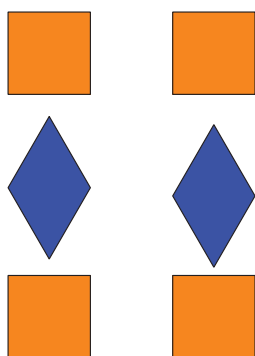
A




B



C




D



Actividad 1

Hagamos diseños con fichas geométricas

Mi diseño






Actividad 2

El diseño con fichas geométricas de Han

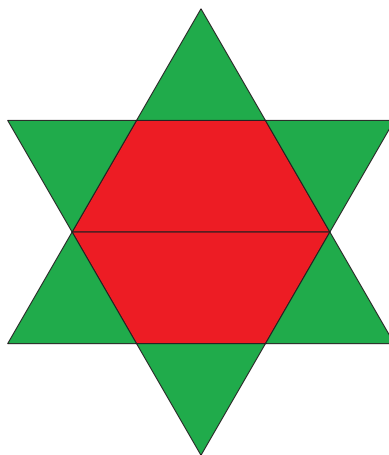
8 fichas geométricas

1.



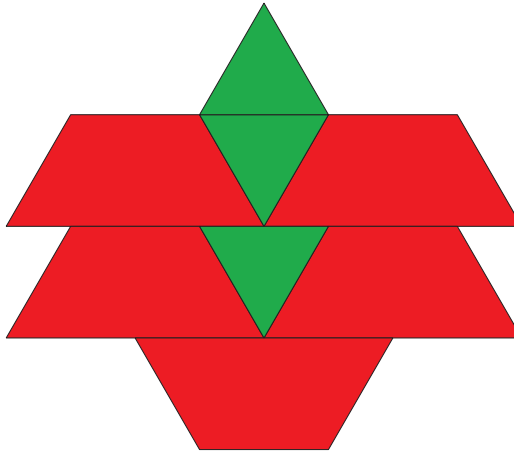
Expresión: _____

2.




Expresión: _____

3.



Expresión: _____

4.



Expresión: _____

Actividad 3

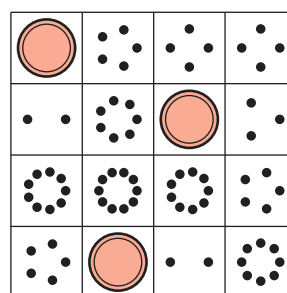
Centros: Momento de escoger

Escoge un centro.

Márcalo



Bingo



Encuentra el valor de expresiones

$$\boxed{3+5} \quad \boxed{7-5}$$

Revuelve y saca

